

第1回 変わり方  
変わり方

かくにん問題 1 答え

(1)

とおるさんの 年れい (オ)	9	10	11	12	13
弟の年れい (オ)	6	7	8	9	10

(2) 3

かくにん問題 2 答え

(1)

えんぴつ の数(本)	1	2	3	4	5
代金(円)	40	80	120	160	200

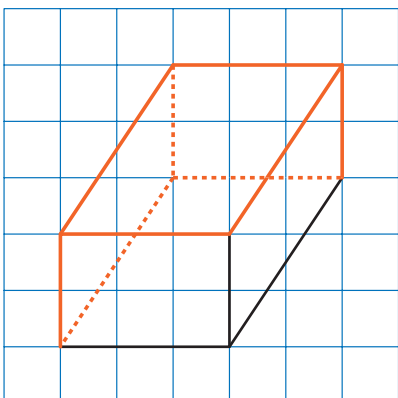
(2) ① 40    ② △

第2回 立体  
直方体と立方体


かくにん問題 1 答え

- ① 立方体    ② 直方体  
③ 6    ④ 12    ⑤ 8

かくにん問題 2 答え

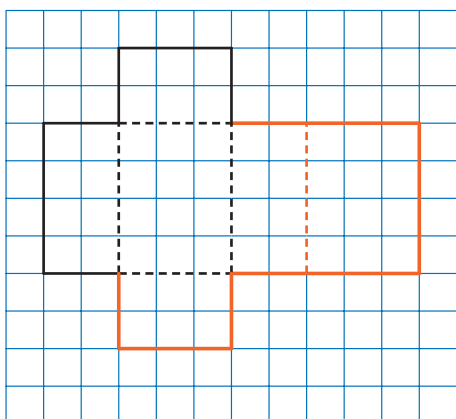


長方形の向かい合った2組の  
辺は平行だったね。だから、向  
かい合った辺は平行にかくよ。



第3回 立体 展開図

かくにん問題 1 答え



展開図をかくときは、  
わくからはみださない  
ようにしようね。



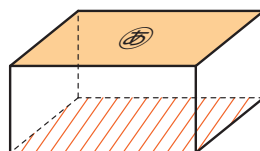
かくにん問題 2 答え

イ, エ

第4回 立体 面や辺の垂直と平行

かくにん問題 1 答え

- (1) 右の図
- (2) 4つ



かくにん問題 2 答え

- (1) 辺イア, 辺カオ, 辺イウ, 辺カキ
- (2) 辺アオ, 辺エク, 辺ウキ
- (3) 面a, 面b

第5回 立体 位置の表し方

かくにん問題 1 答え

- ① 300    ② 500    ③ 200    ④ 300

かくにん問題 2 答え

- ① 5    ② 0    ③ 3    ④ 5    ⑤ 3    ⑥ 0