

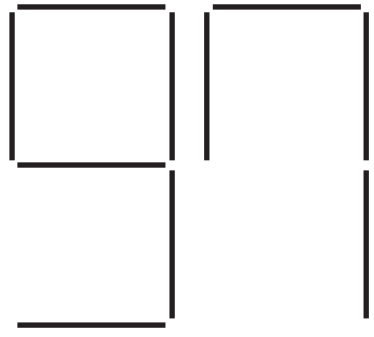
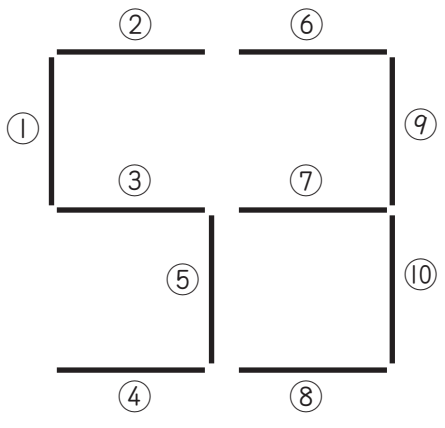
□ 月 □ 日

◎ ぼうを 2本だけ うごかして、^{あたら}新しい ^{かたち}形を ^{つく}作りました。
うごかした ぼうの ^{ばん}番ごうを □に ^か書きましょう。

もとの 形


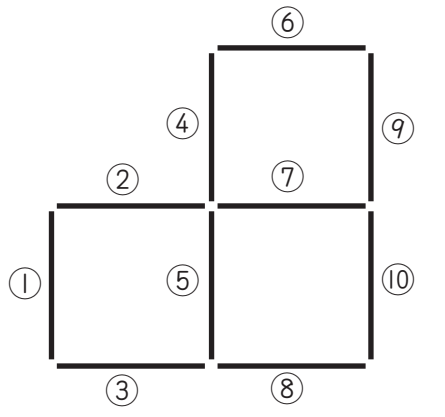
新しい 形

1



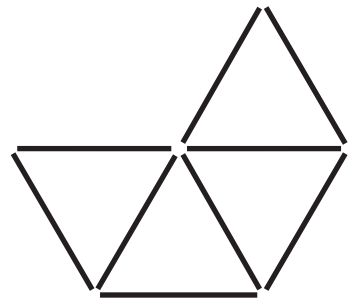
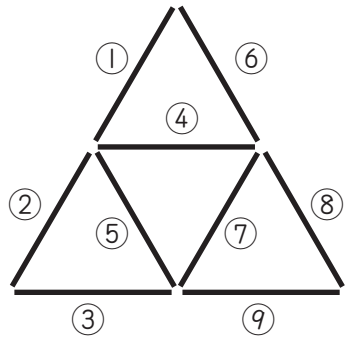
□ と □

2



□ と □

3




□ と □

2

あと なんぶん 何分


月 日

1 時計を よ読み, に あてはまる 数 かず を か書きましょう。



時こくは 時 分です。


あと 5 分で 時になります。



時こくは 時 分です。

7 時から 分がたちました。

あと 分で 8 時になります。




時こくは 時 分です。

11 時から 分がたちました。

あと 分で 12 時になります。

2 2 時 40 分の 20 分前の 時こくは 何時何分でしょう。



	月		日
--	---	--	---

1 ひっさん 筆算で しましょう。

①

$$\begin{array}{r} 55 \\ + 25 \\ \hline \end{array}$$

②

$$\begin{array}{r} 30 \\ + 62 \\ \hline \end{array}$$

③

$$\begin{array}{r} 43 \\ + 6 \\ \hline \end{array}$$

④

$$\begin{array}{r} 9 \\ + 34 \\ \hline \end{array}$$

⑤

$$\begin{array}{r} 20 \\ + 40 \\ \hline \end{array}$$

⑥

$$\begin{array}{r} 77 \\ + 3 \\ \hline \end{array}$$

2 ひっさん 筆算の 中に まちがえて いる ところがあります。下に 正しく か なお 書き直しましょう。

①

$$\begin{array}{r} 25 + 57 \\ 25 \\ + 57 \\ \hline 712 \end{array}$$

↓

②

$$\begin{array}{r} 46 + 19 \\ 46 \\ + 19 \\ \hline 55 \end{array}$$

↓

③

$$\begin{array}{r} 33 + 27 \\ 33 \\ + 27 \\ \hline 6 \end{array}$$

↓

4

ひき算の びん 筆算 ①
 月 日

1 ひっさん 筆算で しましょう。

$$\begin{array}{r} 25 \\ - 10 \\ \hline \end{array}$$

$$\begin{array}{r} 43 \\ - 13 \\ \hline \end{array}$$

$$\begin{array}{r} 76 \\ - 4 \\ \hline \end{array}$$

$$\begin{array}{r} 52 \\ - 9 \\ \hline \end{array}$$

$$\begin{array}{r} 60 \\ - 18 \\ \hline \end{array}$$

$$\begin{array}{r} 93 \\ - 86 \\ \hline \end{array}$$

2 ひっさん 筆算の 中に まちがえて いる ところが あります。下に 正しく か なお 書き直しましょう。

$$\begin{array}{r} 31 - 17 \\ 31 \\ - 17 \\ \hline 24 \end{array}$$



$$\begin{array}{r} 85 - 45 \\ 85 \\ - 45 \\ \hline 4 \end{array}$$



$$\begin{array}{r} 50 - 36 \\ 50 \\ - 36 \\ \hline 26 \end{array}$$



月 日

- 1 風船^{ふうせん}を 60 こ ふくらませます。これまでに 46 こ ふくらませました。あと 何^{なん}こ ふくらませれば よいでしょう。

しき

答え

筆算

- 2 ひかるさんが 計算^{けいさん}の しゅくだいを して います。これまでに 35 もん おわりましたが、まだ 15 もん のこって います。しゅくだいは 何^{なん}もん 出て いるでしょう。

しき

答え

筆算



イーマル

- 3 32 人のりの 船^{ふね}に、24 人が のって います。この 船^{ふね}に のれるのは あと 何^{なんにん}人でしよう。

しき

答え

筆算

6


たすのかな ひくのかな ②

月

日

- 1 はとが 18羽^わ います。すずめは はとより 6羽^わ 多く^{おお} います。すずめは 何羽^{なんわ} いるでしょう。

しき



ミルマリ

あいて いる ところに
筆算^{ひっさん}を しても いいよ。

答え

はってん

- 2 赤い かさが 25本 あります。黒い^{くろ} かさは 赤い かさより 5本^{おお} 多く あります。赤い かさと 黒い^{くろ} かさは 合わせて^あ 何本^{なんぼん} あるでしょう。

しき

答え

はってん

- 3 2年生が 51人 います。1年生は 2年生より 10人 少ない^{すく} そうです。1年生と 2年生は 合わせて^あ 何人^{なんにん} いるでしょう。

しき

答え



はってん は、少し^{すこ} むずかしい もんだいや 教科書^{きょうかしょ}では ならわない もんだいです。

月 日

1 に あてはまる かず 数を か 書きましょう。

$$\begin{array}{r} ① \quad 7 \quad 1 \\ + \quad \square \\ \hline 7 \quad 9 \end{array}$$

$$\begin{array}{r} ② \quad 1 \quad 4 \\ + \quad 1 \quad \square \\ \hline 2 \quad 7 \end{array}$$

$$\begin{array}{r} ③ \quad 5 \quad \square \\ + \quad 3 \quad 2 \\ \hline 8 \quad 6 \end{array}$$

$$\begin{array}{r} ④ \quad 2 \quad 6 \\ + \quad \square \quad 2 \\ \hline 6 \quad 8 \end{array}$$

$$\begin{array}{r} ⑤ \quad 1 \quad 8 \\ + \quad 1 \quad \square \\ \hline 3 \quad 2 \end{array}$$

$$\begin{array}{r} ⑥ \quad 4 \quad \square \\ + \quad 2 \quad 6 \\ \hline 7 \quad 3 \end{array}$$

$$\begin{array}{r} ⑦ \quad 3 \quad 5 \\ + \quad \square \quad 5 \\ \hline 5 \quad 0 \end{array}$$

$$\begin{array}{r} ⑧ \quad \square \quad 3 \\ + \quad 5 \quad 9 \\ \hline 9 \quad 2 \end{array}$$


$$\begin{array}{r} ⑨ \quad 2 \quad 8 \\ + \quad \square \quad 7 \\ \hline 7 \quad 5 \end{array}$$

2 はがきが 27まい あります。今日 きょう また 65まい か 買って きました。はがきは ぜんぶ で なん 何まいに なったでしょう。

しき

筆算

答え



月 日

1 に あてはまる かず 数を か 書きましょう。

$$\begin{array}{r} ① \quad 48 \\ - \quad \square \\ \hline 43 \end{array}$$

$$\begin{array}{r} ② \quad 29 \\ - 1 \square \\ \hline 15 \end{array}$$

$$\begin{array}{r} ③ \quad 8 \square \\ - 52 \\ \hline 36 \end{array}$$

$$\begin{array}{r} ④ \quad 65 \\ - \square 5 \\ \hline 30 \end{array}$$

$$\begin{array}{r} ⑤ \quad 34 \\ - 1 \square \\ \hline 18 \end{array}$$

$$\begin{array}{r} ⑥ \quad 50 \\ - \square 3 \\ \hline 27 \end{array}$$

$$\begin{array}{r} ⑦ \quad 7 \square \\ - 26 \\ \hline 45 \end{array}$$

$$\begin{array}{r} ⑧ \quad 83 \\ - \square 9 \\ \hline 14 \end{array}$$

$$\begin{array}{r} ⑨ \quad \square 2 \\ - 38 \\ \hline 34 \end{array}$$

2 男の子が 46 人 います。女の子が 61 人 います。女の子は男の子より なんにん 何人 おお 多いでしょう。

しき

答え

筆算