

本科 1 期 7 月度

解答

乙会東大進学教室

選抜東大文系数学

東大文系数学

難関大文系数学 T



11章 平面ベクトル

問題

【1】(1) A, B, C, P の位置ベクトルをそれぞれ \vec{a} , \vec{b} , \vec{c} , \vec{p} とおくと、条件式より、

$$5(\vec{p} - \vec{a}) + 4(\vec{p} - \vec{b}) + 3(\vec{p} - \vec{c}) = \vec{0}$$

これより、

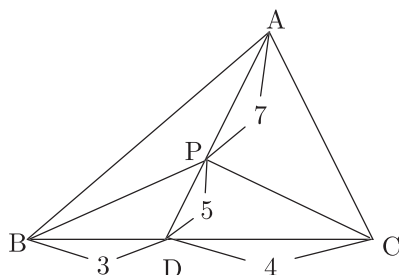
$$\vec{p} = \frac{5\vec{a} + 4\vec{b} + 3\vec{c}}{12} = \frac{1}{12} \left(5\vec{a} + 7 \cdot \frac{4\vec{b} + 3\vec{c}}{7} \right)$$

よって、BC を 3 : 4 の比に内分する点を D とし、その位置ベクトルを \vec{d} と置くと、

$$\vec{p} = \frac{5\vec{a} + 7\vec{d}}{12}$$

従って、図 1 のように、点 P は AD を 7 : 5 の比に内分する点である。 (答)

図 1



(2) $\triangle ABC$ の面積を S とおくと、(1) より、点 P は図 1 のような位置にあるから、

$$\begin{cases} \triangle PBC = \frac{5}{12}S \\ \triangle PCA = \frac{7}{12}\triangle ACD = \frac{7}{12} \cdot \frac{4}{7}S = \frac{1}{3}S \\ \triangle PAB = \frac{7}{12}\triangle ABD = \frac{7}{12} \cdot \frac{3}{7}S = \frac{1}{4}S \end{cases}$$

よって、

$$\triangle PBC : \triangle PCA : \triangle PAB = \frac{5}{12} : \frac{1}{3} : \frac{1}{4} = 5 : 4 : 3 \quad (\text{答})$$

【2】①

(1) 条件

$$\begin{cases} 0 \leq s + t \leq 1 & \dots\dots\dots \text{①} \\ s \geq 0, t \geq 0 & \dots\dots\dots \text{②} \end{cases}$$

の下で

$$\vec{CP} = s\vec{a} + t(\vec{a} + \vec{b}) \quad \dots\dots\dots \text{③}$$

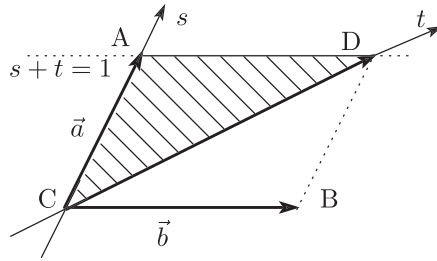
の掃過領域を考える。

$\vec{a} + \vec{b} = \vec{CD}$ とおくと、4 角形 CBDA は平行 4 辺形で、③ は

$$\vec{CP} = s\vec{a} + t\vec{CD} \quad \dots\dots\dots \text{③}'$$

図 2 のように斜交座標 (s, t) で考えると、①, ②, ③' より、点 P は $\triangle CDA$ の周と内部を動く。よって、点 P の存在範囲は図 2 の斜線部で境界を含む。 (答)

図 2



(2) まず、 $s \geq 0, t \geq 0$ であるから、点 P の存在領域は、 $\angle ACB$ の内部 (境界である直線 CA, CB を含む) に含まれる。

この下で、条件 $0 \leq 2s + 3t \leq 4$ を考える。 $2s + 3t = k$ と置く。

まず、 $k = 0$ のとき、 $s \geq 0, t \geq 0$ であるから、 $s = t = 0$ と定まり、このときは点 P は頂点 C に一致する。

次に、 $k \neq 0$ の場合について、 $k > 0$ であるから、条件 $0 < k = 2s + 3t \leq 4$ の両辺を k で割って

$$0 < \frac{2s}{k} + \frac{3t}{k} = 1 \leq \frac{4}{k}$$

このとき、ベクトル $\vec{p} = \vec{CP}$ について

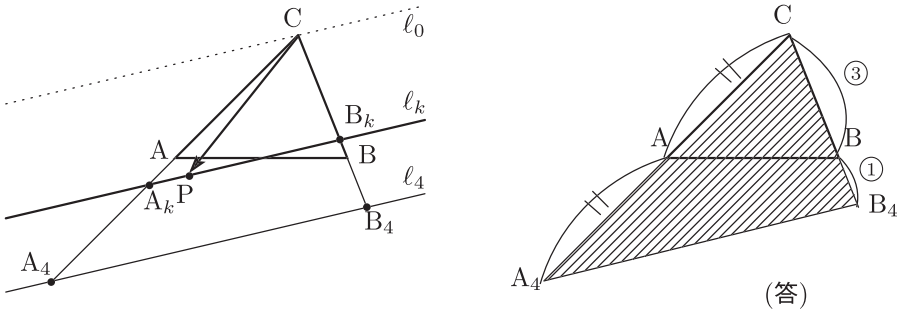
$$\vec{p} = s\vec{a} + t\vec{b} = \frac{2s}{k} \cdot \frac{k}{2}\vec{a} + \frac{3t}{k} \cdot \frac{k}{3}\vec{b}$$

と変形すれば、 $A_k \left(\frac{k}{2}\vec{a} \right)$ 、 $B_k \left(\frac{k}{3}\vec{b} \right)$ として、

$$\vec{p} = \frac{2s}{k}\vec{CA}_k + \frac{3t}{k}\vec{CB}_k, \quad \frac{2s}{k} + \frac{3t}{k} = 1$$

より、3 点 (PA_kB_k) は共線である。この直線を l_k と表す。図 3 の左側を参照せよ。

図 3



$0 < k \leq 4$ であるから、

$$0 < \frac{k}{2} \leq 2, \quad 0 < \frac{k}{3} \leq \frac{4}{3}$$

となり、 $\vec{CA}_4 = 2\vec{a}$ 、 $\vec{CB}_4 = \frac{4}{3}\vec{b}$ として 2 点 A_4, B_4 を定めれば、直線 $l_k = A_kB_k$ は直線 $l_4 = A_4B_4$ に平行に移動する。

従って、この場合の点Pの存在領域、つまりベクトル \vec{p} の掃過領域は l_0 と l_4 で挟まれた帯状領域となる。ただし、境界 l_0 を含まず、 l_4 を含む。

これと、 $\angle ACB$ の内部及び境界からなる領域との共通部分が求める領域となる。

図3の右側になる。

以上をまとめて、求める領域は

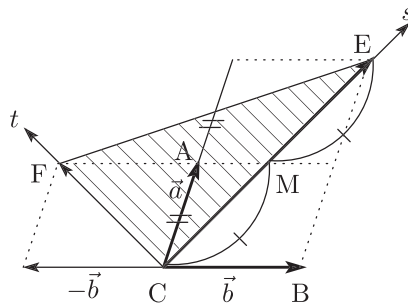
$$\overrightarrow{CA_4} = 2\vec{a}, \overrightarrow{CB_4} = \frac{4}{3}\vec{b} \text{ として, } \triangle CA_4B_4 \text{ の内部及び周上.} \quad (\text{答})$$

(3) 条件の下で

$$\begin{aligned} \overrightarrow{CP} &= (2s+t)\vec{a} + (s-t)\vec{b} \quad \dots\dots\dots \textcircled{4} \\ &= s(2\vec{a} + \vec{b}) + t(\vec{a} - \vec{b}) \end{aligned}$$

と変形される。

図4



$2\vec{a} + \vec{b} = \overrightarrow{CE}$, $\vec{a} - \vec{b} = \overrightarrow{CF}$ とおくと、 $\textcircled{4}$ は、 $\overrightarrow{CP} = s\overrightarrow{CE} + t\overrightarrow{CF}$ で、(1)と同様に考えて、 $0 \leq s+t \leq 1$, $s \geq 0$, $t \geq 0$ より、点Pは $\triangle CFE$ の周と内部を動く。

よって、点Pの存在範囲は図4の斜線部で境界を含む。 (答)

□ $A(\vec{a})$, $B(\vec{b})$, $C(\vec{c})$, $P(\vec{p})$, $Q(\vec{q})$, $R(\vec{r})$ とし、 $0 < s < 1$, $0 < t < 1$, $0 < u < 1$ の下で

$$AP : PB = s : 1 - s, BQ : QC = t : 1 - t, CR : RA = u : 1 - u$$

とすると、P, Q, Rの位置ベクトルについて

$$\vec{p} = (1-s)\vec{a} + s\vec{b}, \quad \vec{q} = (1-t)\vec{b} + t\vec{c}, \quad \vec{r} = (1-u)\vec{c} + u\vec{a}$$

を得る。

$\triangle PQR$ の重心 $G(\vec{g})$, $\triangle ABC$ の重心を $G_0(\vec{g}_0)$ とすれば、

$$\begin{aligned} \vec{g} &= \frac{1}{3}\{(1-s+u)\vec{a} + (1-t+s)\vec{b} + (1-u+t)\vec{c}\} \\ &= \frac{1}{3}(\vec{a} + \vec{b} + \vec{c}) + \frac{1}{3}\{s(\vec{b} - \vec{a}) + t(\vec{c} - \vec{b}) + u(\vec{a} - \vec{c})\} \\ &= \vec{g}_0 + \frac{s}{3}\overrightarrow{AB} + \frac{t}{3}\overrightarrow{BC} + \frac{u}{3}\overrightarrow{CA} \end{aligned}$$

いま、

$$\overrightarrow{G_0A_0} = \frac{1}{3}\overrightarrow{AB}, \quad \overrightarrow{G_0B_0} = \frac{1}{3}\overrightarrow{BC}, \quad \overrightarrow{G_0C_0} = \frac{1}{3}\overrightarrow{CA}$$

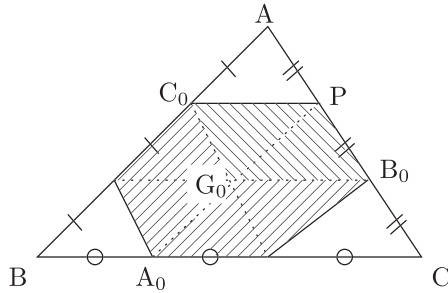
とすれば、 A_0, B_0, C_0 はそれぞれBC, CA, ABを1:2に分ける点である。

ここで

$$\vec{g} = \vec{g}_0 + s\vec{G_0A_0} + t\vec{G_0B_0} + u\vec{G_0C_0}$$

が成り立ち、 $t\vec{G_0B_0} + u\vec{G_0C_0}$ は $s = 0, 0 < t < 1, 0 < u < 1$ のとき、平行4辺形 $G_0B_0PC_0$ を掃過する(境界含まず). $0 < s < 1$ で s を動かせば、この平行4辺形は頂点 G_0 を線分 G_0A_0 に置きながら平行移動する.

図 5



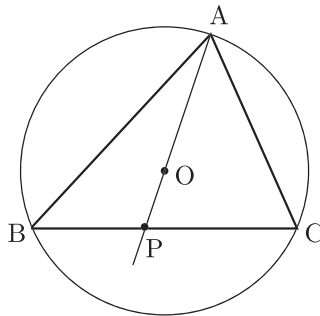
以上より、求める領域は図 5 の 6 角形となる。ただし、境界は含まない。

【3】(1) 条件式より

$$2\vec{OA} + 3\vec{OB} + 4\vec{OC} = \vec{0} \iff \vec{OA} = -\frac{3}{2}\vec{OB} - 2\vec{OC} \quad \dots\dots\dots \textcircled{1}$$

である。

図 6



$\vec{OP} = k\vec{OA}$ と置く. ①より

$$\vec{OP} = -\frac{3}{2}k\vec{OB} - 2k\vec{OC}$$

P が BC 上にあるので

$$-\frac{3}{2}k + (-2k) = 1 \quad \therefore k = -\frac{2}{7}$$

このとき

$$\vec{OP} = \frac{3}{7}\vec{OB} + \frac{4}{7}\vec{OC}$$

よって

P は線分 BC を 4 : 3 に内分する。 (答)

(2) 条件式より

$$2\overrightarrow{OA} = -(3\overrightarrow{OB} + 4\overrightarrow{OC})$$

これと $|\overrightarrow{OA}| = |\overrightarrow{OB}| = |\overrightarrow{OC}| = 1$ より

$$4 = |2\overrightarrow{OA}|^2 = |3\overrightarrow{OB} + 4\overrightarrow{OC}|^2 = 9 + 16 + 24\overrightarrow{OB} \cdot \overrightarrow{OC}$$
$$\therefore \overrightarrow{OB} \cdot \overrightarrow{OC} = -\frac{7}{8}$$

よって求める面積は

$$\frac{1}{2} \sqrt{|\overrightarrow{OB}|^2 |\overrightarrow{OC}|^2 - (\overrightarrow{OB} \cdot \overrightarrow{OC})^2} = \frac{\sqrt{15}}{16} \quad (\text{答})$$

(3) (1) より, $\overrightarrow{OP} = -\frac{2}{7}\overrightarrow{OA}$. よって

$$|\overrightarrow{AP}| = |\overrightarrow{OP} - \overrightarrow{OA}| = \left| \frac{9}{7}\overrightarrow{OA} \right| = \frac{9}{7} \quad (\text{答})$$

また

$$|\overrightarrow{BC}|^2 = |\overrightarrow{OC} - \overrightarrow{OB}|^2 = 1 + 1 - 2\overrightarrow{OB} \cdot \overrightarrow{OC} = 2 + \frac{7}{4} = \frac{15}{4}$$

よって

$$|\overrightarrow{BC}| = \frac{\sqrt{15}}{2} \quad (\text{答})$$

【4】 $A(\vec{0})$, $B(\vec{b})$, $C(\vec{c})$, $P(\vec{p})$ と定める.

(1) 第1の条件より

$$\begin{aligned} \overrightarrow{AP} \cdot \overrightarrow{CP} \leq 0 &\iff \vec{p} \cdot (\vec{p} - \vec{c}) \leq 0 \\ &\iff |\vec{p}|^2 - \vec{p} \cdot \vec{c} \leq 0 \\ &\iff \left| \vec{p} - \frac{1}{2}\vec{c} \right|^2 \leq \frac{1}{4}|\vec{c}|^2 = \frac{25}{4} \end{aligned}$$

が成り立つから, 点 P の存在領域は $K\left(\frac{1}{2}\vec{c}\right)$ を中心とし, 半径が $\frac{5}{2}$ の円の内部及び周上である.

第2の条件より

$$\begin{aligned} \overrightarrow{AB} \cdot \overrightarrow{AP} \leq \overrightarrow{BA} \cdot \overrightarrow{BP} &\iff \vec{b} \cdot \vec{p} \leq -\vec{b} \cdot (\vec{p} - \vec{b}) \\ &\iff 2\vec{b} \cdot \vec{p} - \vec{b} \cdot \vec{b} \leq 0 \\ &\iff \vec{b} \cdot \left(\vec{p} - \frac{\vec{b}}{2} \right) \leq 0 \end{aligned}$$

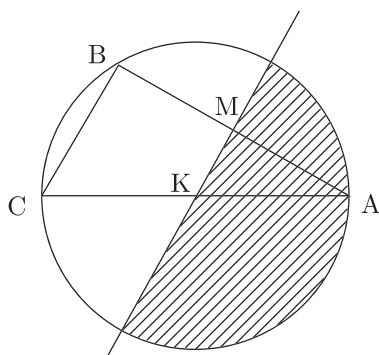
であるから, AB の中点を M として

$$\overrightarrow{AB} \cdot \overrightarrow{MP} \leq 0$$

よって, $\overrightarrow{AB}, \overrightarrow{MP}$ のなす角を θ とすれば $90^\circ \leq \theta \leq 180^\circ$ である.

つまり, AB の垂直二等分線を境界とする半平面のうち, A を含む片側である. 以上より, 求める領域は図7のようになる.

図 7



- (2) $\triangle PBC$ の面積が最大となるのは、 P が線分 BC の垂直二等分線と優弧 BAC の交点にあるときである。辺 BC の中点を N として

$$BN = \frac{3}{2} \quad \therefore NK = \sqrt{\left(\frac{5}{2}\right)^2 - \left(\frac{3}{2}\right)^2} = \sqrt{4 \cdot 1} = 2$$

であるから、

$$NP = 2 + \frac{5}{2} = \frac{9}{2}$$

よって、 $\triangle PBC$ の面積の最大値は

$$\frac{1}{2} \cdot 3 \cdot \frac{9}{2} = \frac{27}{4} \quad (\text{答})$$

添削課題

- 【1】 \vec{a} , \vec{b} , \vec{c} を位置ベクトルとする点をそれぞれ A, B, C とする.

- (1) $r + s = k$ とおくと,

$$\vec{p} = r\vec{a} + s\vec{b} = k\left(\frac{r}{k}\vec{a} + \frac{s}{k}\vec{b}\right)$$

ここで, k を固定して r, s を変化させると

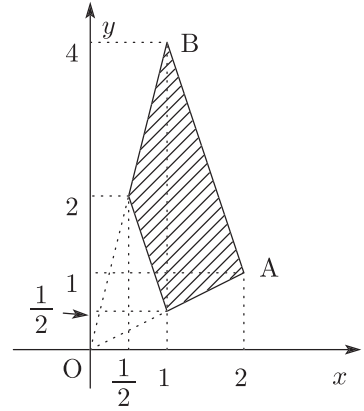
$$\frac{r}{k} + \frac{s}{k} = \frac{r+s}{r+s} = 1$$

だから $\frac{r}{k}\vec{a} + \frac{s}{k}\vec{b}$ を位置ベクトルとする点は線分 AB 上を動く.

次に, k を変化させると, $\frac{1}{2} \leq k \leq 1$ より, 点

P が動く領域は, 線分 AB を原点を中心に $\frac{1}{2}$

倍から 1 倍まで拡大するときに通過する範囲となる. よって求める領域は上のようになる (境界は含む).



- (2) $r + s = k$ とおくと, $k + t = 1$ である. また

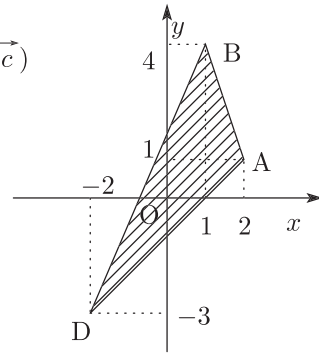
$$\vec{p} = r\vec{a} + s\vec{b} - t\vec{c} = k\left(\frac{r}{k}\vec{a} + \frac{s}{k}\vec{b}\right) + t(-\vec{c})$$

k を固定して r, s を変化させると, $\frac{r}{k} + \frac{s}{k} = 1$

より, $\frac{r}{k}\vec{a} + \frac{s}{k}\vec{b}$ を位置ベクトルとする点は線分 AB 上を動く.

次に, k, t を変化させると, 点 P が動く領域は,

$-\vec{c}$ を位置ベクトルとする点を D として, 三角形 ABD の周および内部である. よって求める領域は右のようになる (境界は含む).

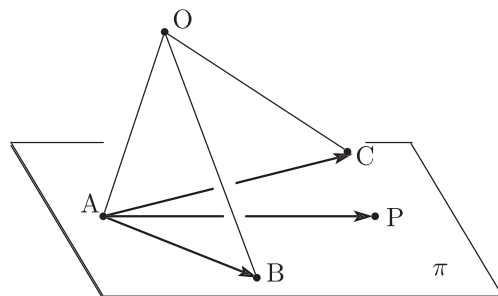


12章 空間ベクトル

問題

- 【1】(1) (i) まず必要条件であることを示す. 示すべき命題は
 「4点(PABC)が共面ならば, $\alpha + \beta + \gamma = 1$ 」
 である.

図1



Pが3点A, B, Cで定まる平面上にあれば, 実数 s と t を用いて

$$\overrightarrow{AP} = s\overrightarrow{AB} + t\overrightarrow{AC}$$

と書ける. 基点を O として表せば,

$$\overrightarrow{OP} - \overrightarrow{OA} = s(\overrightarrow{OB} - \overrightarrow{OA}) + t(\overrightarrow{OC} - \overrightarrow{OA})$$

$$\therefore \overrightarrow{OP} = (1 - s - t)\overrightarrow{OA} + s\overrightarrow{OB} + t\overrightarrow{OC}$$

となる.

3つのベクトル \overrightarrow{OA} , \overrightarrow{OB} , \overrightarrow{OC} は同一平面上にない(1次独立である)ので

$$\alpha = 1 - s - t, \beta = s, \gamma = t \quad \therefore \alpha + \beta + \gamma = 1$$

- (ii) 次に十分条件であることを示す. $\alpha + \beta + \gamma = 1$ とすれば,

$$\overrightarrow{OP} = \alpha\overrightarrow{OA} + \beta\overrightarrow{OB} + \gamma\overrightarrow{OC} = (1 - \beta - \gamma)\overrightarrow{OA} + \beta\overrightarrow{OB} + \gamma\overrightarrow{OC}$$

$$\therefore \overrightarrow{OP} - \overrightarrow{OA} = \beta(\overrightarrow{OB} - \overrightarrow{OA}) + \gamma(\overrightarrow{OC} - \overrightarrow{OA})$$

$$\therefore \overrightarrow{AP} = \beta\overrightarrow{AB} + \gamma\overrightarrow{AC}$$

従って, \overrightarrow{AP} は \overrightarrow{AB} と \overrightarrow{AC} の張る平面上にあるから, 確かに点Pは3点A, B, Cで定まる平面上にある. (証明終)

- (2) (1) から $\alpha + \beta + \gamma = 1$ は成り立っている.

このとき, Pが $\triangle ABC$ の内部にあるのは(1)の s と t が

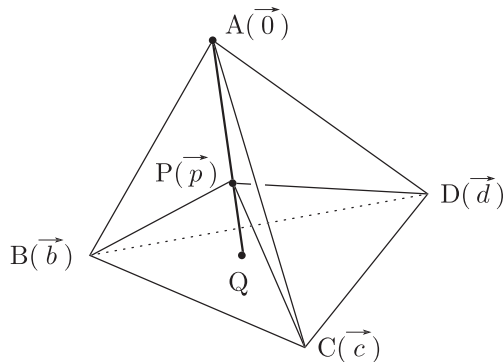
$$0 < \beta, 0 < \gamma, \beta + \gamma < 1$$

をみたすときである. $\alpha = 1 - (\beta + \gamma)$ なので求める条件は

$$0 < \alpha, 0 < \beta, 0 < \gamma, \alpha + \beta + \gamma = 1 \quad (\text{答})$$

- 【2】 $A(\vec{0})$, $B(\vec{b})$, $C(\vec{c})$, $D(\vec{d})$, $P(\vec{p})$ と定める. また, 4 面体 ABCD の体積を V とし, 更に直線 AP と面 BCD の交点を Q とする.

図 2



与えられた条件より,

$$\alpha \vec{p} + \beta (\vec{p} - \vec{b}) + \gamma (\vec{p} - \vec{c}) + \delta (\vec{p} - \vec{d}) = \vec{0}$$

であるから, これを \vec{p} について整理すれば

$$(\alpha + \beta + \gamma + \delta) \vec{p} = \beta \vec{b} + \gamma \vec{c} + \delta \vec{d}$$

を得る. $\alpha + \beta + \gamma + \delta = s$ と置けば, \vec{p} について

$$\vec{p} = \frac{\beta \vec{b} + \gamma \vec{c} + \delta \vec{d}}{s} \quad \dots\dots\dots \textcircled{1}$$

▼ (APQ) は共線だから, ある実数 k について

$$\vec{AQ} = k \vec{p} = \frac{k}{s} (\beta \vec{b} + \gamma \vec{c} + \delta \vec{d})$$

▼ (QBCD) は共面だから

$$\frac{k}{s} (\beta + \gamma + \delta) = 1 \quad \therefore k = \frac{s}{\beta + \gamma + \delta}$$

従って,

$$AP : AQ = 1 : k = \beta + \gamma + \delta : \alpha + \beta + \gamma + \delta$$

が成り立ち,

$$PQ : AQ = \alpha : s$$

となる. 4 面体 PBCD と 4 面体 ABCD は, $\triangle BCD$ を底面として共有し, かつその高さの比は $PQ : AQ$ に等しいから, PBCD の体積を V_A とすれば,

$$V_A = \frac{\alpha}{s} V$$

まったく同様の計算により, 他の 4 面体 PACD, PABD, PABC について, その体積をそれぞれ V_B, V_C, V_D とすれば

$$V_B = \frac{\beta}{s} V, \quad V_C = \frac{\gamma}{s} V, \quad V_D = \frac{\delta}{s} V$$

となる.

よって求める体積比は

$$V_A : V_B : V_C : V_D = \alpha : \beta : \gamma : \delta \quad (\text{答})$$

【3】 (1) $A(1, 1, 1)$, $B(-1, 2, 3)$, $C(a, -1, 4)$ であるから,

$$\vec{BA} = \begin{pmatrix} 1 \\ 1 \\ 1 \end{pmatrix} - \begin{pmatrix} -1 \\ 2 \\ 3 \end{pmatrix} = \begin{pmatrix} 2 \\ -1 \\ -2 \end{pmatrix}, \quad \vec{BC} = \begin{pmatrix} a \\ -1 \\ 4 \end{pmatrix} - \begin{pmatrix} -1 \\ 2 \\ 3 \end{pmatrix} = \begin{pmatrix} a+1 \\ -3 \\ 1 \end{pmatrix}$$

従って、内積の定義から、

$$\begin{aligned} \cos \theta &= \frac{\vec{BA} \cdot \vec{BC}}{|\vec{BA}| |\vec{BC}|} = \frac{2(a+1) + 3 - 2}{\sqrt{2^2 + (-1)^2 + (-2)^2} \sqrt{(a+1)^2 + (-3)^2 + 1^2}} \\ &= \frac{2a+3}{3\sqrt{a^2+2a+11}} \quad (\text{答}) \end{aligned}$$

(2) ベクトルによる 3 角形の面積公式を用いて、

$$\begin{aligned} S(a) &= \frac{1}{2} \sqrt{|\vec{BA}|^2 |\vec{BC}|^2 - (\vec{BA} \cdot \vec{BC})^2} \\ &= \frac{1}{2} \sqrt{9(a^2+2a+11) - (2a+3)^2} \\ &= \frac{1}{2} \sqrt{5a^2+6a+90} = \frac{1}{2} \sqrt{5 \left(a + \frac{3}{5}\right)^2 + \frac{441}{5}} \end{aligned}$$

よって面積 $S(a)$ の最小値は $a = -\frac{3}{5}$ のときで、

$$\min S = S\left(-\frac{3}{5}\right) = \frac{21\sqrt{5}}{10} \quad (\text{答})$$

(3) $\vec{BA} = \begin{pmatrix} 2 \\ -1 \\ -2 \end{pmatrix}$ と $\vec{BC} = \begin{pmatrix} \frac{2}{5} \\ -3 \\ 1 \end{pmatrix}$ のいずれとも垂直なベクトルを $\vec{n} = \begin{pmatrix} \alpha \\ \beta \\ \gamma \end{pmatrix}$ とす

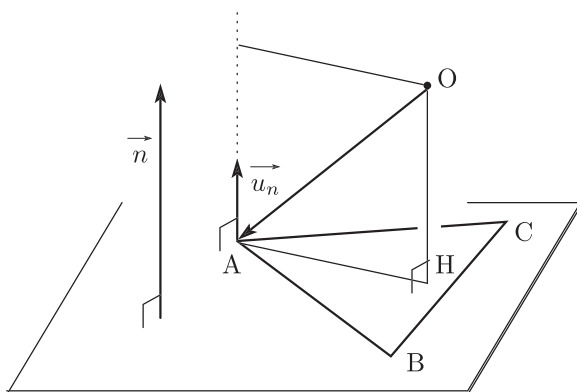
ると、

$$\vec{n} \cdot \vec{BA} = 0 \iff 2\alpha - \beta - 2\gamma = 0$$

$$\vec{n} \cdot \vec{BC} = 0 \iff \frac{2}{5}\alpha - 3\beta + \gamma = 0$$

が成り立つ。

図 3



これから、比 $\alpha : \beta : \gamma$ を求めると、

$$\alpha : \beta : \gamma = 5 : 2 : 4$$

を得るから、 $\vec{n} = \begin{pmatrix} 5 \\ 2 \\ 4 \end{pmatrix}$ とすることができる。

原点 O から面 ABC に下した垂線の足 H について、 \vec{OA} のベクトル \vec{n} への正射影 \vec{OH} を求めれば、それが点 O と平面 ABC の距離 (ただし、符号をもつ距離) になる。 \vec{n} に平行な単位ベクトルを \vec{u}_n とすると、

$$\vec{OH} = \vec{u}_n \cdot \vec{OA} = \frac{\vec{n}}{|\vec{n}|} \cdot \vec{OA}$$

ここで、

$$|\vec{n}| = \sqrt{5^2 + 2^2 + 4^2} = 3\sqrt{5}, \quad \vec{n} \cdot \vec{OA} = \begin{pmatrix} 5 \\ 2 \\ 4 \end{pmatrix} \cdot \begin{pmatrix} 1 \\ 1 \\ 1 \end{pmatrix} = 11$$

であるから、正射影 \vec{OH} は $\vec{OH} = \frac{11}{3\sqrt{5}}$ となる。従って、 \vec{OA} の \vec{n} への正射影ベクトル \vec{OH} は

$$\vec{OH} = \vec{OH} \cdot \vec{u}_n = \frac{11}{3\sqrt{5}} \cdot \frac{\vec{n}}{|\vec{n}|} = \frac{11}{3\sqrt{5}} \cdot \frac{1}{3\sqrt{5}} \begin{pmatrix} 5 \\ 2 \\ 4 \end{pmatrix} = \frac{11}{45} \begin{pmatrix} 5 \\ 2 \\ 4 \end{pmatrix}$$

従って、求める点 H の座標は

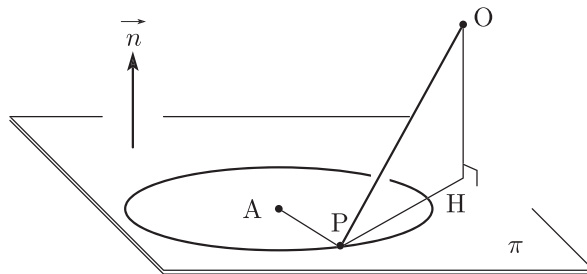
$$H \left(\frac{11}{9}, \frac{22}{45}, \frac{44}{45} \right) \quad (\text{答})$$

(4) (2), (3) より四面体 $OABC$ の体積 V は

$$V = \frac{1}{3} \cdot \triangle ABC \cdot OH = \frac{1}{3} \cdot \frac{21\sqrt{5}}{10} \cdot \frac{11}{3\sqrt{5}} = \frac{77}{30} \quad (\text{答})$$

【4】 原点 O から、この平面 π に下した垂線の足を H とする。題意を図にすると、図 4 のようになる。

図 4



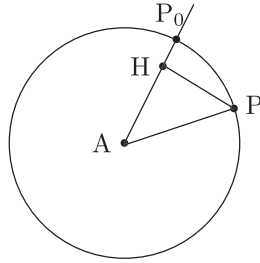
$OP^2 = OH^2 + PH^2$ であり、 OH は定数であるから、 OP が最小であるのは、 PH が最小であるときである。

更に、 PH が最小であるのは、3点 (AHP) が共線であるときで、このとき

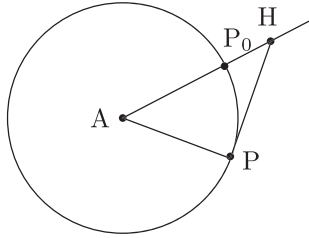
$$\min PH = |AH - 2|$$

図 5

H が内点のとき



H が外点のとき



\overrightarrow{OH} は、 \vec{n} への \overrightarrow{OA} の正射影ベクトルであるから、まず正射影 \overrightarrow{OH} を求めると、 $|\vec{n}| = \sqrt{1^2 + 2^2 + 2^2} = 3$ であるから、

$$\overrightarrow{OH} = \frac{\vec{n}}{|\vec{n}|} \cdot \overrightarrow{OA} = \frac{1}{3} \begin{pmatrix} 1 \\ 2 \\ 2 \end{pmatrix} \cdot \begin{pmatrix} 5 \\ -1 \\ 3 \end{pmatrix} = \frac{1}{3} (5 - 2 + 6) = 3$$

従って、 \vec{n} への \overrightarrow{OA} の正射影ベクトル \overrightarrow{OH} は

$$\overrightarrow{OH} = \overrightarrow{OH} \times \frac{\vec{n}}{|\vec{n}|} = 3 \cdot \frac{1}{3} \begin{pmatrix} 1 \\ 2 \\ 2 \end{pmatrix} = \begin{pmatrix} 1 \\ 2 \\ 2 \end{pmatrix} \quad \therefore H(1, 2, 2)$$

よって

$$\overrightarrow{AH} = \begin{pmatrix} 1 \\ 2 \\ 2 \end{pmatrix} - \begin{pmatrix} 5 \\ -1 \\ 3 \end{pmatrix} = \begin{pmatrix} -4 \\ 3 \\ -1 \end{pmatrix} \quad \therefore |\overrightarrow{AH}| = \sqrt{(-4)^2 + 3^2 + (-1)^2} = \sqrt{26}$$

この値は半径 2 より大きいから、点 H は円の外点である。よって

$$\min PH = |\sqrt{26} - 2| = \sqrt{26} - 2$$

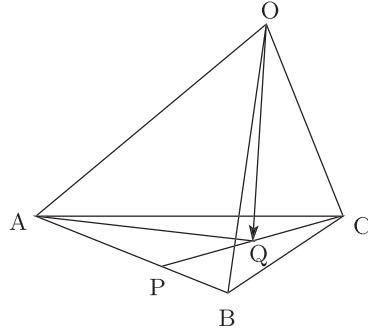
であるから、求める OP^2 の最小値は

$$\begin{aligned} \min OP^2 &= OH^2 + (\min PH)^2 \\ &= 3^2 + (\sqrt{26} - 2)^2 = 39 - 4\sqrt{26} \quad (\text{答}) \end{aligned}$$

添削課題

【1】題意を図にすると、図1のようになる。

図1



(1) $AP : PB = 2 : 1$ なので、

$$\overrightarrow{OP} = \frac{1}{3}\overrightarrow{OA} + \frac{2}{3}\overrightarrow{OB}$$

よって、 Q は PC の中点であるから、

$$\begin{aligned} \overrightarrow{OQ} &= \frac{1}{2}(\overrightarrow{OP} + \overrightarrow{OC}) \\ &= \frac{1}{2}\left(\frac{1}{3}\overrightarrow{OA} + \frac{2}{3}\overrightarrow{OB}\right) + \frac{1}{2}\overrightarrow{OC} \\ &= \frac{1}{6}\overrightarrow{OA} + \frac{1}{3}\overrightarrow{OB} + \frac{1}{2}\overrightarrow{OC} \quad (\text{答}) \end{aligned}$$

(2) $|\overrightarrow{OA}| = 3$, $|\overrightarrow{OB}| = 2$, $|\overrightarrow{OC}| = 1$ であり、また、

$$\overrightarrow{OA} \cdot \overrightarrow{OB} = |\overrightarrow{OA}| |\overrightarrow{OB}| \cos \angle AOB = 3 \cdot 2 \cdot \frac{1}{2} = 3$$

$$\overrightarrow{OB} \cdot \overrightarrow{OC} = |\overrightarrow{OB}| |\overrightarrow{OC}| \cos \angle BOC = 2 \cdot 1 \cdot \frac{1}{2} = 1$$

$$\overrightarrow{OC} \cdot \overrightarrow{OA} = |\overrightarrow{OC}| |\overrightarrow{OA}| \cos \angle COA = 1 \cdot 3 \cdot \frac{1}{2} = \frac{3}{2}$$

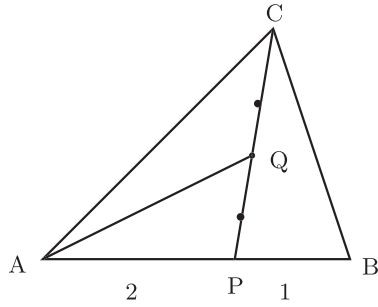
なので、

$$\begin{aligned} |\overrightarrow{OQ}|^2 &= \left| \frac{1}{6}(\overrightarrow{OA} + 2\overrightarrow{OB} + 3\overrightarrow{OC}) \right|^2 = \frac{1}{36} |\overrightarrow{OA} + 2\overrightarrow{OB} + 3\overrightarrow{OC}|^2 \\ &= \frac{1}{36} (|\overrightarrow{OA}|^2 + 4|\overrightarrow{OB}|^2 + 9|\overrightarrow{OC}|^2 + 4\overrightarrow{OA} \cdot \overrightarrow{OB} + 12\overrightarrow{OB} \cdot \overrightarrow{OC} + 6\overrightarrow{OC} \cdot \overrightarrow{OA}) \\ &= \frac{1}{36} \left(3^2 + 4 \cdot 2^2 + 9 \cdot 1^2 + 4 \cdot 3 + 12 \cdot 1 + 6 \cdot \frac{3}{2} \right) = \frac{67}{36} \end{aligned}$$

$$\therefore |\overrightarrow{OQ}| = \frac{\sqrt{67}}{6} \quad (\text{答})$$

(3) 底面の $\triangle ABC$ だけを取り出して図にすると、図2のようになる。

図 2



$\triangle APQ = \frac{1}{2} \triangle APC = \frac{1}{2} \cdot \frac{2}{3} \triangle ABC = \frac{1}{3} \triangle ABC$
 であるから、 $\triangle ABC$ の面積を求める。

$$\triangle ABC = \frac{1}{2} \sqrt{|\vec{AB}|^2 |\vec{AC}|^2 - (\vec{AB} \cdot \vec{AC})^2}$$

を用いる。

$$\begin{aligned} |\vec{AB}|^2 &= |\vec{OB} - \vec{OA}|^2 \\ &= |\vec{OB}|^2 - 2\vec{OB} \cdot \vec{OA} + |\vec{OA}|^2 \\ &= 2^2 - 2 \cdot 3 + 3^2 = 7 \end{aligned}$$

また、

$$\begin{aligned} |\vec{AC}|^2 &= |\vec{OC} - \vec{OA}|^2 \\ &= |\vec{OC}|^2 - 2\vec{OC} \cdot \vec{OA} + |\vec{OA}|^2 \\ &= 1^2 - 2 \cdot \frac{3}{2} + 3^2 = 7 \end{aligned}$$

そして

$$\begin{aligned} \vec{AB} \cdot \vec{AC} &= (\vec{OB} - \vec{OA}) \cdot (\vec{OC} - \vec{OA}) \\ &= \vec{OB} \cdot \vec{OC} - \vec{OB} \cdot \vec{OA} - \vec{OA} \cdot \vec{OC} + |\vec{OA}|^2 \\ &= 1 - 3 - \frac{3}{2} + 3^2 = \frac{11}{2} \end{aligned}$$

従って

$$\triangle ABC = \frac{1}{2} \sqrt{7 \cdot 7 - \left(\frac{11}{2}\right)^2} = \frac{1}{2} \sqrt{\frac{75}{4}} = \frac{5}{4} \sqrt{3}$$

であるから、

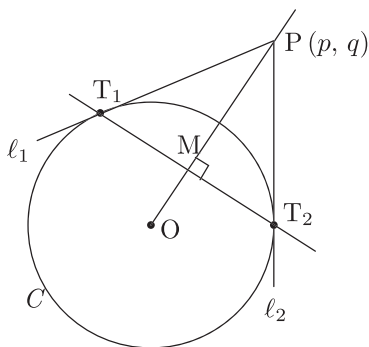
$$\triangle APQ = \frac{1}{3} \triangle ABC = \frac{1}{3} \cdot \frac{5}{4} \sqrt{3} = \frac{5}{12} \sqrt{3} \quad (\text{答})$$

1 3 章 図形総合

問題

- 【1】(1) 接点を $T_1(X_1, Y_1)$, および $T_2(X_2, Y_2)$ とすれば, 接線の方程式は
 $l_1: X_1x + Y_1y = 1, \quad l_2: X_2x + Y_2y = 1$
 点 P を $P(p, q)$ とすれば, P は l_1, l_2 上にあるから,
 $X_1p + Y_1q = 1, \quad X_2p + Y_2q = 1$
 が成り立つ.

図 1



ここで, 直線 $px + qy = 1$ を考えると, 点 $T_1(X_1, Y_1), T_2(X_2, Y_2)$ はいずれもこの方程式をみたすから, 2点 T_1, T_2 はどちらもこの直線上にある. よって, 直線 T_1T_2 の方程式は

$$T_1T_2: px + qy = 1$$

この直線の法線ベクトルを \vec{n} とすれば $\vec{n} = \begin{pmatrix} p \\ q \end{pmatrix}$ となり, かつ点 M は直線 OP 上にあるから, 3点 OMP は共線で, $M(X, Y)$ とすれば, ある実数 $r (> 0)$ について
 $\vec{OM} = r\vec{n} = r \begin{pmatrix} p \\ q \end{pmatrix} \quad \therefore X = rp, Y = rq \iff p = \frac{X}{r}, q = \frac{Y}{r} \quad \dots\dots\dots \textcircled{1}$

点 $M(X, Y)$ は直線 T_1T_2 上にあるから,

$$pX + qY = 1 \quad \dots\dots\dots \textcircled{2}$$

が成り立つ. ②に①を代入して

$$\frac{X^2}{r} + \frac{Y^2}{r} = 1 \iff r = X^2 + Y^2$$

再び①に代入して

$$p = \frac{X}{X^2 + Y^2}, \quad q = \frac{Y}{X^2 + Y^2}$$

となり, 点 P の座標は

$$P\left(\frac{X}{X^2 + Y^2}, \frac{Y}{X^2 + Y^2}\right) \quad (\text{答})$$

- (2) 点 P が直線 $x = k$ 上にあるから, (1) より

$$\frac{X}{X^2 + Y^2} = k \iff X = k(X^2 + Y^2) \quad \text{かつ} \quad X^2 + Y^2 \neq 0 \quad \dots\dots\dots \textcircled{3}$$

また、点 P が円 $C : x^2 + y^2 = 1$ の外部にあるから、 $OP^2 > 1$ 、つまり

$$\frac{X^2 + Y^2}{(X^2 + Y^2)^2} > 1 \iff X^2 + Y^2 < 1$$

である。従って次が成り立つ：

点 M は円 C の内部にあることが必要でさらに $X^2 + Y^2 \neq 0$ であるから、原点 O に一致することはない。 (#)

k について、 0 かどうかで場合を分ける。

(i) $k = 0$ のとき、 $X = 0$ となり、 M の軌跡は y 軸に含まれる。

(#) を考えて、このとき点 M の軌跡は
 $x = 0, \quad -1 < y < 0, 0 < y < 1$

(ii) $k > 0$ のとき、③より

$$X^2 + Y^2 = \frac{X}{k} \iff \left(X - \frac{1}{2k}\right)^2 + Y^2 = \frac{1}{4k^2}$$

となり、点 M の軌跡はこの円の円周に含まれる。この円を C_P とする。

(#) を考えて、この円 C_P が単位円 C に含まれるかどうかで場合を分ける。

Case 1. C_P が単位円 C の内部に含まれるとき、半径と中心間の距離を考えて

$$1 - \frac{1}{2k} > \frac{1}{2k} \iff 1 > \frac{1}{k} \iff k > 1$$

つまり、 $k > 1$ のとき、 M の軌跡は

$$\text{円} \left(x - \frac{1}{2k}\right)^2 + y^2 = \left(\frac{1}{2k}\right)^2, \quad \text{ただし} (x, y) \neq (0, 0)$$

Case 2. C_P と C が共有点をもつとき、内接する場合も含めて考えれば

$$\left|1 - \frac{1}{2k}\right| \leq \frac{1}{2k} < 1 + \frac{1}{2k} \iff (0 <) k \leq 1$$

このとき、求める点 M の軌跡は、

$$\text{円} \left(x - \frac{1}{2k}\right)^2 + y^2 = \left(\frac{1}{2k}\right)^2, \quad \text{ただし} x^2 + y^2 < 1 \text{ かつ } (x, y) \neq (0, 0)$$

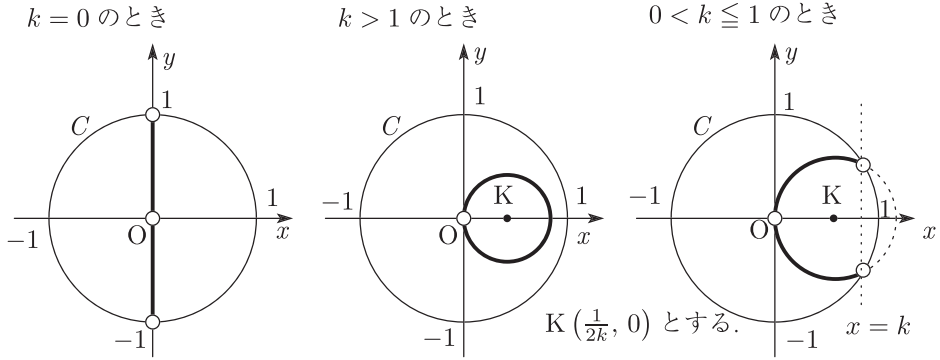
この円 C_P と単位円 C との交点は、直線 $x = k$ 上にある。

以上をまとめて、次の結果を得る：

- $k = 0$ のとき、 y 軸の $-1 < y < 0, 0 < y < 1$ の部分。
- $k > 1$ のとき、円 $\left(x - \frac{1}{2k}\right)^2 + y^2 = \left(\frac{1}{2k}\right)^2$ の原点 O を除いた図形。
- $0 < k \leq 1$ のとき、円 $\left(x - \frac{1}{2k}\right)^2 + y^2 = \left(\frac{1}{2k}\right)^2$ の、単位円 C の内部にあり、かつ原点 O を除いた図形。

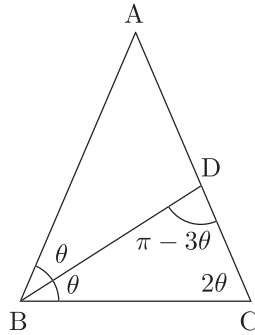
それぞれ図示すれば、図 2 の太線部が求める軌跡になる。 (答)

図 2



【2】底角 $\angle B = \angle C = 2\theta$ とすれば、 $\triangle BDC$ で $\angle BDC = \pi - 3\theta$ である。

図 3



$\triangle BDC$ で正弦定理を用いれば

$$\frac{BD}{\sin 2\theta} = \frac{BC}{\sin(\pi - 3\theta)} = \frac{1}{\sin 3\theta}$$

よって線分 BD について、次のようになる：

$$BD = \frac{\sin 2\theta}{\sin 3\theta} = \frac{2 \sin \theta \cos \theta}{3 \sin \theta - 4 \sin^3 \theta}$$

$$= \frac{2 \cos \theta}{3 - 4 \sin^2 \theta}$$

$$= \frac{2 \cos \theta}{4 \cos^2 \theta - 1}$$

$t = 2 \cos \theta$ と置けば、

$$0 < 2\theta < \frac{\pi}{2} \iff 0 < \theta < \frac{\pi}{4} \iff \frac{1}{\sqrt{2}} < \cos \theta < 1 \iff \sqrt{2} < t < 2$$

であり

$$BD = \frac{2 \cos \theta}{(2 \cos \theta)^2 - 1} = \frac{t}{t^2 - 1}$$

と表される。これを $f(t)$ とすると、

$$f(t) = \frac{t}{t^2 - 1} = \frac{1}{2} \left(\frac{1}{t+1} + \frac{1}{t-1} \right)$$

$\sqrt{2} < t < 2$ において、 $f(t)$ は連続で、 $\frac{1}{t+1}$, $\frac{1}{t-1}$ はいずれも単調に減少するから、 $f(t)$ も単調に減少する。よって

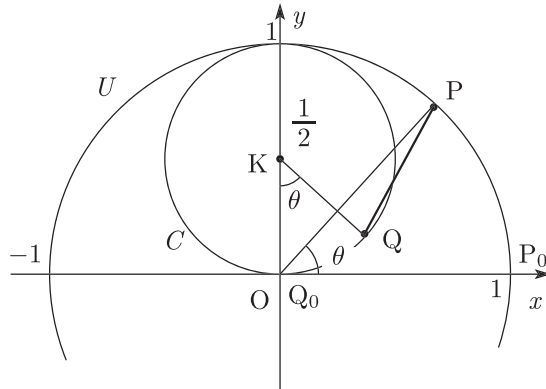
$$f(2) < BD < f(\sqrt{2})$$

$f(2) = \frac{2}{2^2-1} = \frac{2}{3}$, $f(\sqrt{2}) = \frac{\sqrt{2}}{2-1} = \sqrt{2}$ であるから、 $\angle B$ の 2 等分線 BD の長さの範囲は

$$\frac{2}{3} < BD < \sqrt{2} \quad (\text{答})$$

【3】 P, Q がそれぞれ U および C を 1 周する時間を 2π として一般性を失わない。

図 4



C は

$$x^2 + \left(y - \frac{1}{2}\right)^2 = \left(\frac{1}{2}\right)^2$$

と変形されるから、その中心は $K\left(0, \frac{1}{2}\right)$ 、また半径は $\frac{1}{2}$ の円である。2 点 P, Q が出発して時間 θ だけ経過したとき、点 P の座標は $P(\cos \theta, \sin \theta)$ である。

また、このときの Q について $Q(X, Y)$ とすれば、

$$\overrightarrow{OQ} = \overrightarrow{OK} + \overrightarrow{KQ} = \begin{pmatrix} 0 \\ \frac{1}{2} \end{pmatrix} + \frac{1}{2} \begin{pmatrix} \cos\left(-\frac{\pi}{2} + \theta\right) \\ \sin\left(-\frac{\pi}{2} + \theta\right) \end{pmatrix}$$

であるから、

$$X = \frac{1}{2} \cos\left(\theta - \frac{\pi}{2}\right) = \frac{1}{2} \sin \theta$$

$$Y = \frac{1}{2} + \frac{1}{2} \sin\left(\theta - \frac{\pi}{2}\right) = \frac{1}{2} - \frac{1}{2} \cos \theta = \frac{1}{2}(1 - \cos \theta)$$

従って、 \overrightarrow{PQ} は

$$\overrightarrow{PQ} = \begin{pmatrix} \frac{1}{2} \sin \theta \\ \frac{1}{2}(1 - \cos \theta) \end{pmatrix} - \begin{pmatrix} \cos \theta \\ \sin \theta \end{pmatrix} = \frac{1}{2} \begin{pmatrix} \sin \theta - 2 \cos \theta \\ (1 - \cos \theta) - 2 \sin \theta \end{pmatrix}$$

ここで、線分 PQ の長さを最大、最小にするために、 $4|\overrightarrow{PQ}|^2$ を考える。

$$\begin{aligned} 4|\overrightarrow{PQ}|^2 &= (\sin \theta - 2 \cos \theta)^2 + \{(1 - \cos \theta) - 2 \sin \theta\}^2 \\ &= 6 - 4 \sin \theta - 2 \cos \theta \end{aligned}$$

$$= 6 - 2(2 \sin \theta + \cos \theta)$$

$f(\theta) = 2 \sin \theta + \cos \theta$ と置いて、合成すると、

$$f(\theta) = 2 \sin \theta + \cos \theta = \sqrt{5} \sin(\theta + \alpha)$$

となる。ただしここで、 α は $\begin{cases} \sin \alpha = \frac{1}{\sqrt{5}} \\ \cos \alpha = \frac{2}{\sqrt{5}} \end{cases}$ をみたす角である。

$0 \leq \theta \leq 2\pi$ であるから、 $\sin(\theta + \alpha) = 1$, $\sin(\theta + \alpha) = -1$ となる θ が存在する。よって、 $f(\theta)$ の最大・最小は

• (最大値) $= \sqrt{5}$, これは $\theta + \alpha = \frac{\pi}{2}$ のときで、このとき $4|\overrightarrow{PQ}|^2$ は最小。

• (最小値) $= -\sqrt{5}$, これは $\theta + \alpha = \frac{3\pi}{2}$ のときで、このとき $4|\overrightarrow{PQ}|^2$ は最大。

以上より、距離 PQ の最大・最小は

• 最大となるのは $f(\theta)$ が最小値 $-\sqrt{5}$ をとるときで、このとき

$$PQ^2 = \frac{6 + 2\sqrt{5}}{4} = \frac{(\sqrt{5} + 1)^2}{4} \quad \therefore \max PQ = \frac{\sqrt{5} + 1}{2} \quad (\text{答})$$

• 最小となるのは $f(\theta)$ が最大値 $\sqrt{5}$ をとるときで、このとき

$$PQ^2 = \frac{6 - 2\sqrt{5}}{4} = \frac{(\sqrt{5} - 1)^2}{4} \quad \therefore \min PQ = \frac{\sqrt{5} - 1}{2} \quad (\text{答})$$

【4】 まず、 S_1 は中心 $K(0, 0, 1)$ 、半径 1 の球面であり、 S_2 は中心 $(0, 1, 0)$ 、半径 1 の球面である。

2つの球 S_1, S_2 の共有点の集合を求める。一般に、2個の球が交わる時、その共通部分は円になる。その円を『公円』と言う。

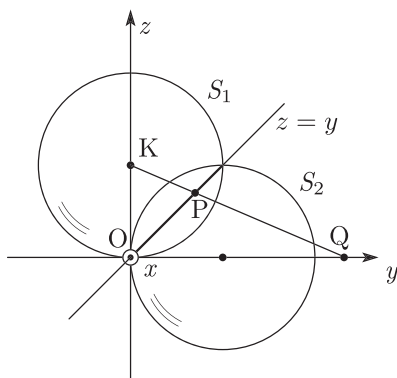
$$S_1: x^2 + y^2 + (z - 1)^2 - 1 = 0, \quad S_2: x^2 + (y - 1)^2 + z^2 - 1 = 0$$

のいずれにも含まれる点は、この2式を同時にみたすから、連立して辺々引けば

$$2y - 2z = 0 \iff y = z$$

が成り立つ。従って公円 C は球 S_1 と平面 $y = z$ との共通部分である。そこで、2球を yz 平面で切断した断面を考えると、次の図5のようになる。

図5



$z = y$ を球面 S_1 の方程式に代入して

$$x^2 + y^2 + (y - 1)^2 = 1 \iff x^2 + 2y^2 - 2y = 0 \quad \dots\dots\dots ①$$

公円 C 上の点 P は平面 $y = z$ 上にあるから、その座標を $P(x, y, y)$ とし、また直線 KP と xy 平面との交点 Q を $Q(X, Y, 0)$ とする。3 点 (KPQ) は共線であるから、 t を実数として

$$\overrightarrow{KP} = t\overrightarrow{KQ}$$

が成り立つ。

$$\overrightarrow{KP} = \begin{pmatrix} x \\ y \\ y \end{pmatrix} - \begin{pmatrix} 0 \\ 0 \\ 1 \end{pmatrix} = \begin{pmatrix} x \\ y \\ y - 1 \end{pmatrix}, \quad \overrightarrow{KQ} = \begin{pmatrix} X \\ Y \\ 0 \end{pmatrix} - \begin{pmatrix} 0 \\ 0 \\ 1 \end{pmatrix} = \begin{pmatrix} X \\ Y \\ -1 \end{pmatrix}$$

であるから、

$$\begin{pmatrix} x \\ y \\ y - 1 \end{pmatrix} = t \begin{pmatrix} X \\ Y \\ -1 \end{pmatrix} \iff \begin{cases} x = tX \\ y = tY \\ y - 1 = -t \end{cases} \quad \dots\dots\dots ②$$

第 3 式より $y = 1 - t$ であるから、第 2 式と合わせて

$$tY = 1 - t \quad \therefore (1 + Y)t = 1$$

点 P の y 座標は常に非負だから、 $1 + Y > 0$ で、従って

$$t = \frac{1}{1 + Y} \quad \dots\dots\dots ③$$

②, ③より

$$x = \frac{X}{1 + Y}, \quad y = \frac{Y}{1 + Y} \quad \dots\dots\dots ④$$

④を①に代入して

$$\begin{aligned} \left(\frac{X}{1 + Y}\right)^2 + 2\left(\frac{Y}{1 + Y}\right)^2 - 2 \cdot \frac{Y}{1 + Y} &= 0 \\ \iff X^2 + 2Y^2 - 2(1 + Y)Y &= 0 \\ \iff X^2 - 2Y &= 0 \quad \therefore Y = \frac{1}{2}X^2 \end{aligned}$$

以上より、求める Q の軌跡は

$$\text{放物線 } y = \frac{1}{2}x^2, z = 0 \quad (\text{答})$$

M3JSB/M3JB/M3TB

選抜東大文系数学

東大文系数学

難関大文系数学 T



Z-KAI

会員番号	
------	--

氏名	
----	--

不許複製