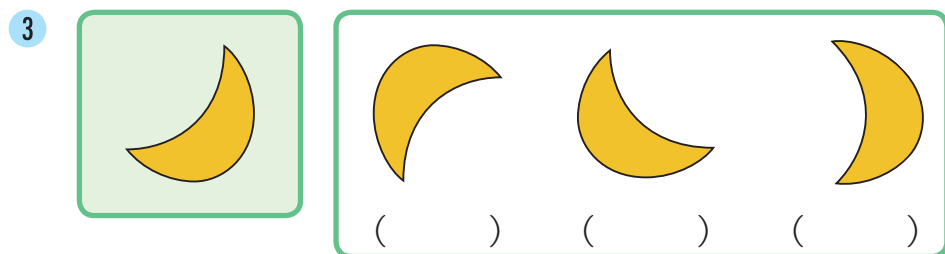

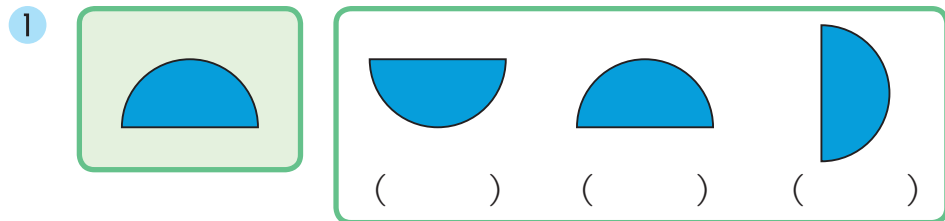
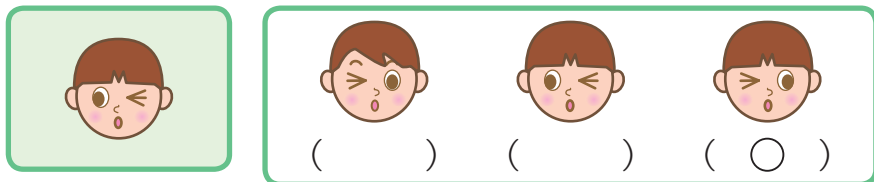
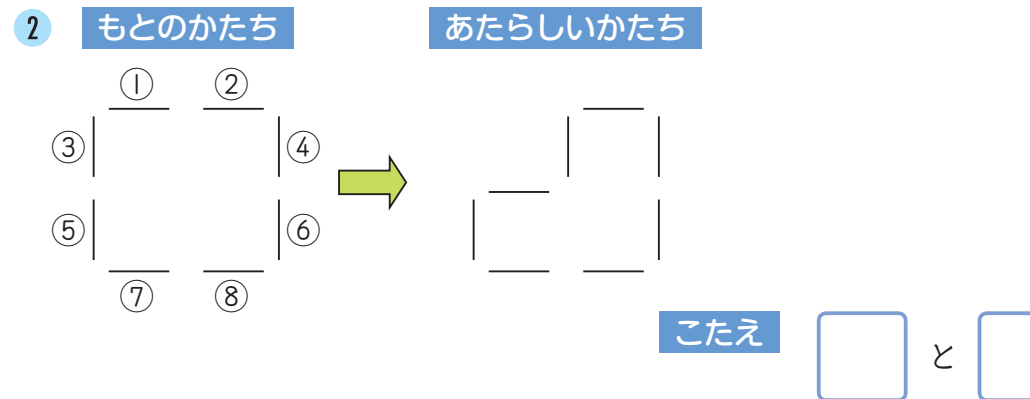
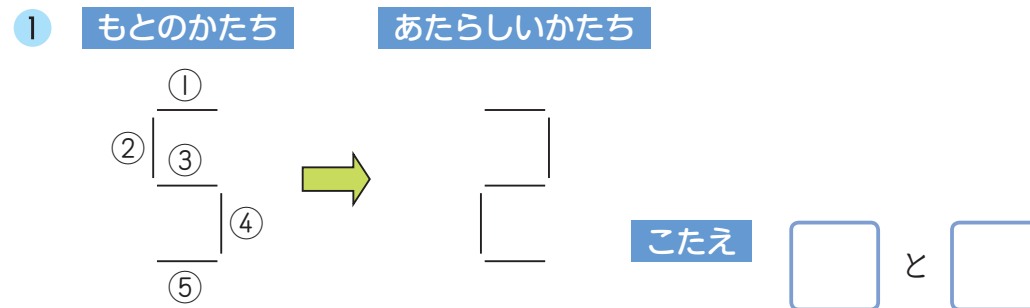


1 に ある えを、かがみに うつしました。どんな ふうに見えますか。 の 中から えらんで () に を かきましょう。(1つ 20点)

やりかた



2 ぼうで できた かたちがあります。ぼうを 2本 ^{ほん} うごかして、あたらしい かたちをつくりました。うごかした ぼうの ばんごうを に かきましょう。(1つ 20点)



しって いたら **かっこいい!** → スプーンに うつた かたち

下の えの ように、きんぞくの スプーンに かたちを うつすと、どんな ふうに見えるか、しって いるかな？
上下も さかさまに なるんだよ！ やって みてね。

もちかた スプーンに うつた かお