

第2回

くらしの水 / 今と昔

学習日 月 日

とくてん
得点
/100点

① 次の問いに答えなさい。(50点)

(1) 川の上流にあるダムで、水のいきおいを^{りょう}利用してつくっているものは何ですか。書きなさい。(10点)

()

(2) 森林のある山がはたす^{やくわり}役割を、次のア～エの中から2つ^{えら}選び、記号を書きなさい。(1つ5点)

- ア 家庭や工場から出る水をきれいにし、川や海に流している。
- イ 雨水や雪どけ水を地中にたくわえ、ゆっくりと川に流す。
- ウ 海から空、空から^{りくち}陸地、陸地から海へと水をじゅんかんさせている。
- エ 根をはって、土が流れ出すのをふさいでいる。

() ()

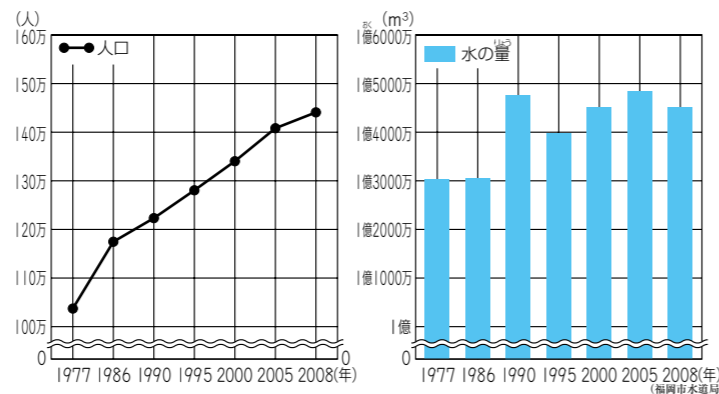
(3) 右の写真はじょう水場です。じょう水場とは何を
するところですか。かんたんに書きなさい。

(15点)

()

著作権の都合により、
写真は表示していません。

(4) 右の2つのグラフを見て、
次の①～③の文のうち、正しいものに○は、まちがっているものには×をそれぞれ書きなさい。(1つ5点)



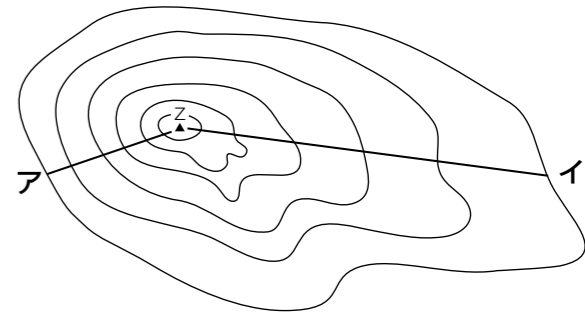
- () ① 1年間に使う水の^{りょう}量は、2008年がいちばん多い。
- () ② 人口は、1977年からへることなく^{つづ}ふえ続けている。
- () ③ 人口がふえると水を使う量もふえている。

② 次の問いに答えなさい。(30点)

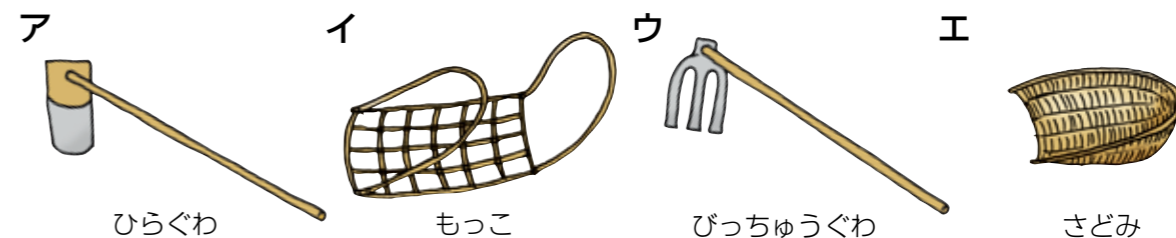
(1) 右の図の乙山に登るには、アの道とイの道があります。どちらの道のほうが急な坂ですか。記号を書きなさい。

(10点)

()



(2) 次の図は、昔の工事に使った道具です。土をほる道具と土や石を運ぶ道具を、次のア～エの中から、それぞれ2つ選び、記号を書きなさい。(1つ5点)



ほる道具 () ()

運ぶ道具 () ()

③ 昔の道具と今の道具の組み合わせとして、次のア～ウの中から、まちがっているものを1つ選び、記号を書きなさい。(10点)

- ア たらいとせんたく板 — せんたく^き機
- イ かまど — ガスコンロ
- ウ あんどん — 水道

()

④ 次のア～オの文の中から、まちがっているものを2つ選び、記号を書きなさい。(1つ5点)

- ア 昔の人は祭りや行事によって、^{ほうさく}豊作をいのり、^{かんしゃ}しゅうかくに感謝していた。
- イ 昔の祭りは生活が^{ゆた}豊かになるにつれて、まったく行われなくなった。
- ウ 昔の子どもはめんこやビー玉、竹馬など、手作りできるおもちゃで遊んでいた。
- エ 節分は、女の子の^{せいしょう}成長を願う昔からの行事である。
- オ 昔から^{つた}伝わる^{たてもの}建物やしせつの中には、^{とどうふけん}国や都道府県などの文化ざいとして、ほぞんされているものがある。

() ()