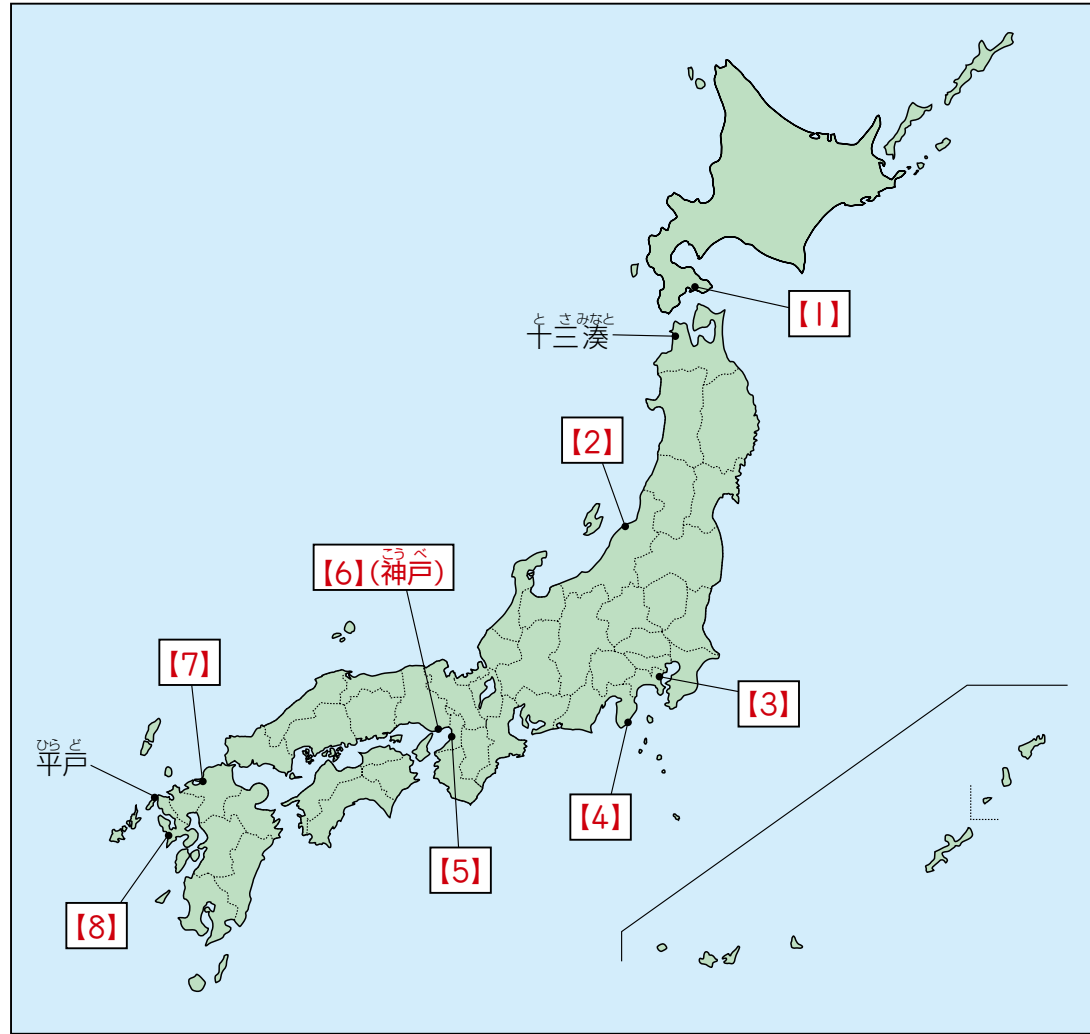


29 主な港

貿易や外交の場となった主な港について、時代ごとに整理します。港の場所と、栄えた時代を結びつけながら覚えていきましょう。



主な港

関連 ➡ 48 ページ 日米和親条約で開港した2港      関連 ➡ 48 ページ 日米修好通商条約で開港した5港

飛鳥時代～平安時代の貿易と港

- 日本から中国に派遣された遣隋使・遣唐使は、中国の進んだ政治制度や文化を日本にもたらしましたが、菅原道真の進言で894年に廃止されました。
- [6] (兵庫県) …現在の神戸港の一部。[9] が日宋貿易を行うために整備しました。

室町時代～安土桃山時代の貿易と港

- 室町時代、[10] が日明貿易 (勘合貿易) を開始しました。[5] (大阪府) や [7] (福岡県) が日明貿易の拠点として栄えました。また、商工業の発達により船による運輸もさかんになり、十三湊 (青森県) などの港町が栄えました。
- 安土桃山時代、主に九州の平戸 (長崎県) や [8] で、ヨーロッパの国々との間で [11] 貿易が行われました。日本は鉄砲や火薬などを輸入しました。

江戸時代の貿易と港

- 江戸時代、[12] 政策がとられるようになると、日本は [8] でオランダ・中国のみと貿易を行いました。オランダとの貿易は長崎港内の [13] で行われました。
- 1853年に [14] が来航して開国をせまると、日本は1854年に [15] 条約、1858年に [16] 条約を結び、開国しました。

[15] 条約	[4]・[1]
[16] 条約	[1]・神奈川 ([3])・[8]・[2]・兵庫 (神戸)

ポイント 港の位置と栄えた時期を覚えよう!

- 大輪田泊…平安時代後半、日宋貿易の拠点となる
- 堺・博多…室町時代、日明貿易の拠点となる
- 長崎…江戸時代、オランダや中国との貿易の拠点となる

江戸時代の漁業

江戸時代、網の改良や漁場の開発など、漁業が発達しました。[18] 浜 (千葉県) では地引網を使ったイワシ漁が、土佐 (高知県) や紀伊 (三重県・和歌山県) ではクジラ漁がさかんでした。[17] (北海道) からはアイヌの人たちとの交易で、ニシンなど多くの海産物が得られました。



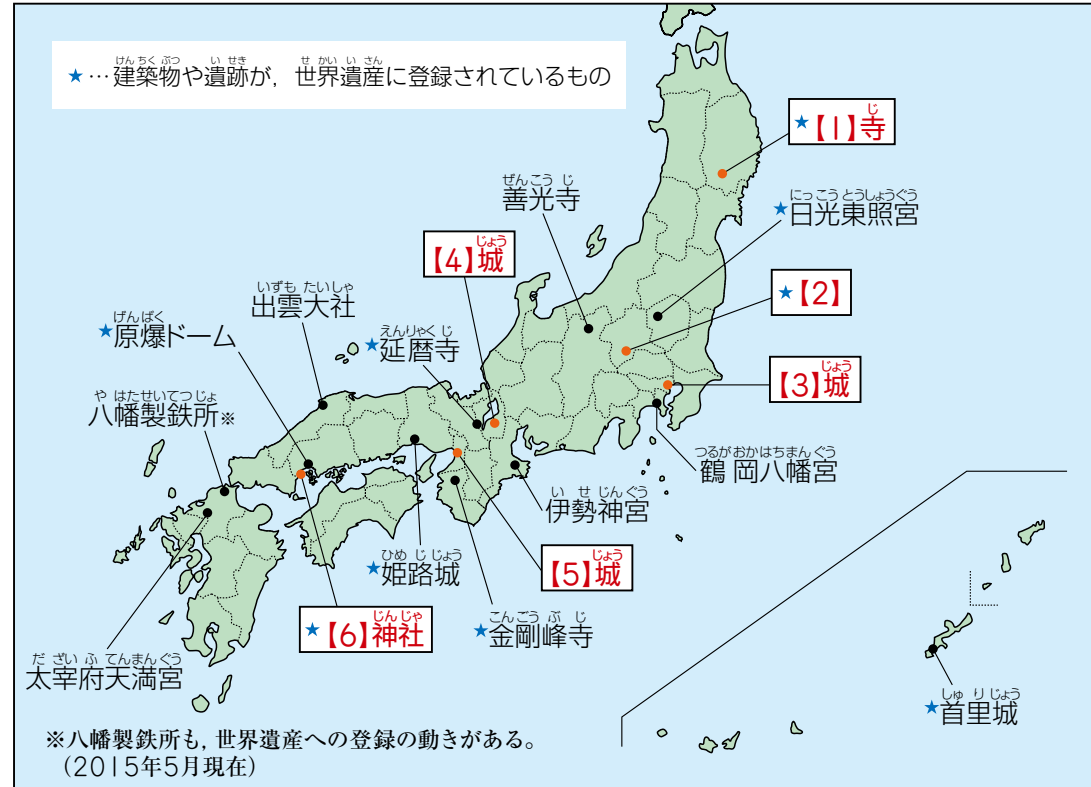
さらにチェック!

入試ではここが問われる!

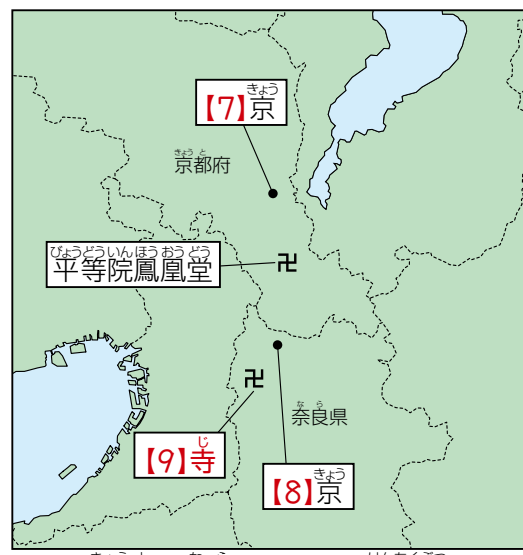
- 長崎など、江戸時代の貿易港はよく出題されます。条約の開港地を整理しましょう。

30 覚えておきたい主な建築物 ★

これまで学習した中で、特に覚えておきたい寺院や城などの建築物の位置を確認します。



覚えておきたい主な建築物



京都・奈良にある主な建築物

覚えておきたい主な建築物

<b>[1] 寺</b>	岩手県平泉町にある。奥州藤原氏によってつくられた。
日光東照宮	栃木県にある。【10】がまつられている。
<b>[2]</b>	群馬県につくられた官営工場。
<b>[4] 城</b>	近江(滋賀県)の琵琶湖のほとりに、【11】によって築かれた。城は、現在は残っていない。
平等院鳳凰堂	【12】が宇治(京都府)につくった阿彌陀堂。
<b>[9] 寺</b>	聖徳太子が斑鳩(奈良県)につくった。金堂などは、現在残っている世界最古の木造建築だといわれている。
<b>[6] 神社</b>	広島県の宮島にある。平氏によって改修された。

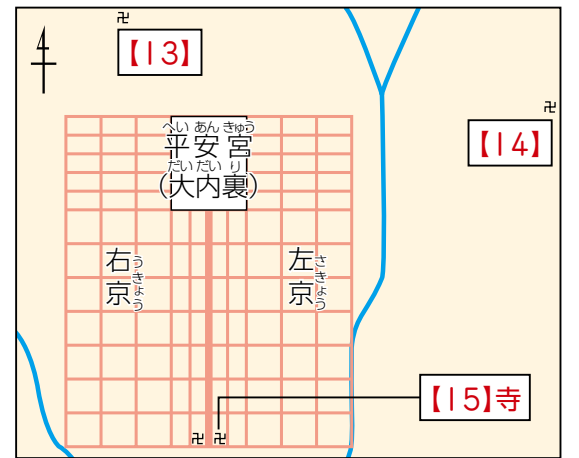
ポイント 地図で場所を確かめよう!

- 東日本…中尊寺(岩手県)・江戸城(東京都)・富岡製糸場(群馬県)など
- 西日本…安土城(滋賀県)・大阪城(大阪府)・厳島神社(広島県)など

✓ 平安京と金閣・銀閣の位置

さらにチェック!

現在の京都市内には、いくつもの重要な建築物があります。【7】京との位置関係を問われることが多いので、右の地図で位置を確認しておきましょう。  
室町時代の北山文化を代表する【13】は【7】京の北に、東山文化を代表する【14】は平安京の東にあります。



🏠 入試ではここが問われる!

- 金閣や銀閣は平安京との位置関係が問われます。
- 地図にあげた建築物については、現在の都道府県名を問われることも多いので、地図上の位置とどの都道府県にあるかも覚えておきましょう。