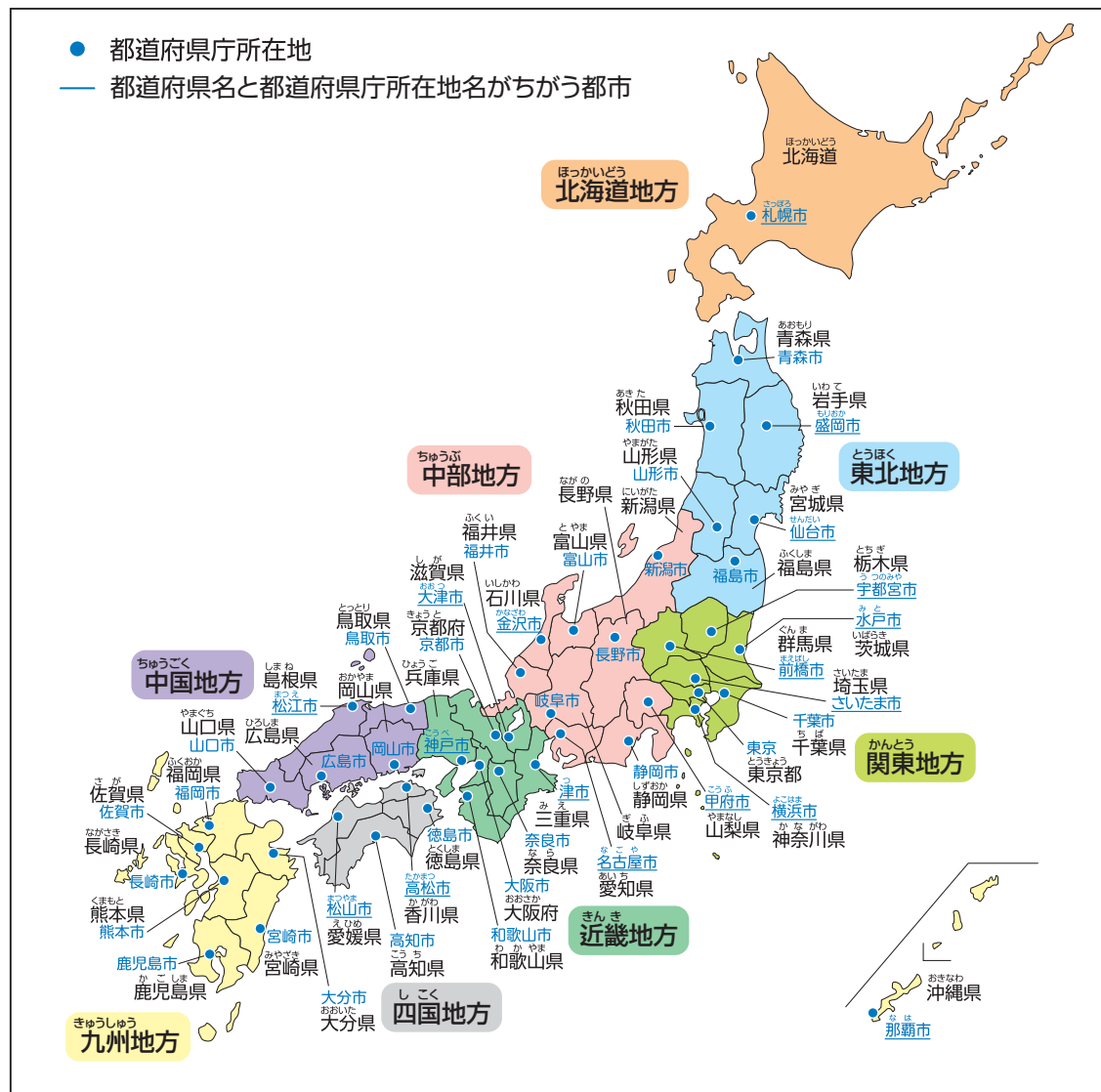


# 日本の都道府県

日本を、地方ごと、都道府県ごとに分けると下の地図のようになります。地図をかくにんしてから、学習を進めていきましょう。



## ●日本の都道府県

都道府県とは、地域の分け方の一つで、日本には47の都道府県があります。47都道府県は、1つの都(東京都)、1つの道(北海道)、2つの府(大阪府・京都府)、43の県に分けることができます。

都道府県の次には、市町村という単位で分けることができます。

## ●8 地方区分

社会の学習でよく使われる区分として、8地方区分があります。ふだんの生活の中では、中部地方を東海・中央高地・北陸に分けたり、中国地方を山陽・山陰に分けたりするように、さらに細かく分けることもあります。

8 地方区分	各地方の都道府県
北海道地方	北海道
東北地方	青森県・岩手県・宮城県・秋田県・山形県・福島県
関東地方	茨城県・栃木県・群馬県・埼玉県・千葉県・東京都・神奈川県
中部地方	新潟県・富山県・石川県・福井県・山梨県・長野県・岐阜県・静岡県・愛知県
近畿地方	三重県・滋賀県・京都府・大阪府・兵庫県・奈良県・和歌山県
中国地方	鳥取県・島根県・岡山県・広島県・山口県
四国地方	徳島県・香川県・愛媛県・高知県
九州地方	福岡県・佐賀県・長崎県・熊本県・大分県・宮崎県・鹿児島県・沖縄県



ここでは、日本の形や、都道府県の名前をかくにんしておこう。第2章で、それぞれの都道府県についてくわしく学習していくよ。

みんながくらしている都道府県は、何地方かしら？



1 次の①～⑤にあてはまる語句を書きなさい。



都道府県名の筆順

北

海

道

北海道の道庁所在地  
... ( ① ) 市

北海道のポイント

- 石狩平野を ( ② ) が流れている。
- 十勝平野で畑作がさかん。小麦や大豆、 ( ③ ) などの生産量が日本一。
- ( ④ ) では、乳用牛などを飼育して行う酪農がさかん。
- 水産業がさかんで、養殖による ( ⑤ ) の生産量は日本一。

2 世界遺産に登録されている地域がある北海道の半島を、次のア～ウの中から一つ選び、記号を書きなさい。

ア 渡島半島      イ 知床半島      ウ 津軽半島      (      )

3 本州から多くの人々がうつり住む以前から、北海道に住んでいる先住民族を何といいますか。カタカナで書きなさい。

(      )

知っていたらカッコいい!

● 釧路湿原は、日本で最初のラムサール条約の登録地だよ。

ラムサール条約は、国際的にきちょうな湿原を守っていくことを目的にした取り決めのことだよ。とくに水鳥などが住む場所を大切にしているんだ。日本がこの条約に入って、最初に登録されたのが釧路湿原なんだよ。

● 北海道の面積は、九州地方と四国地方を合わせた面積より大きいよ。

北海道の面積は、全国の都道府県の中でいちばん大きく、日本の面積の約5分の1をしめているんだ。これは、九州地方と四国地方を合わせた面積より大きいんだ。

● 乳製品をつくるために、乳用牛を飼う農業を酪農というよ。

肉、乳、皮などを利用するために牛やぶたなどの家畜を飼う農業を畜産というね。その中でも、バターやチーズなどの乳製品をつくるために乳用牛を飼う農業を酪農というんだ。北海道には広い牧草地があって、夏でもすずしいから、暑さに弱い牛を飼いやすく、たくさんの牛が飼育されているよ。

● 石狩平野で稲作がさかんになったのは、他の地域からよい土を運び入れたからなんだ。これを客土というよ。

石狩平野は、もともと農業に適さない土地だったんだ。そこで他の土地から土を運び入れ、長い時間をかけて稲作に向く土地に改良したんだよ。

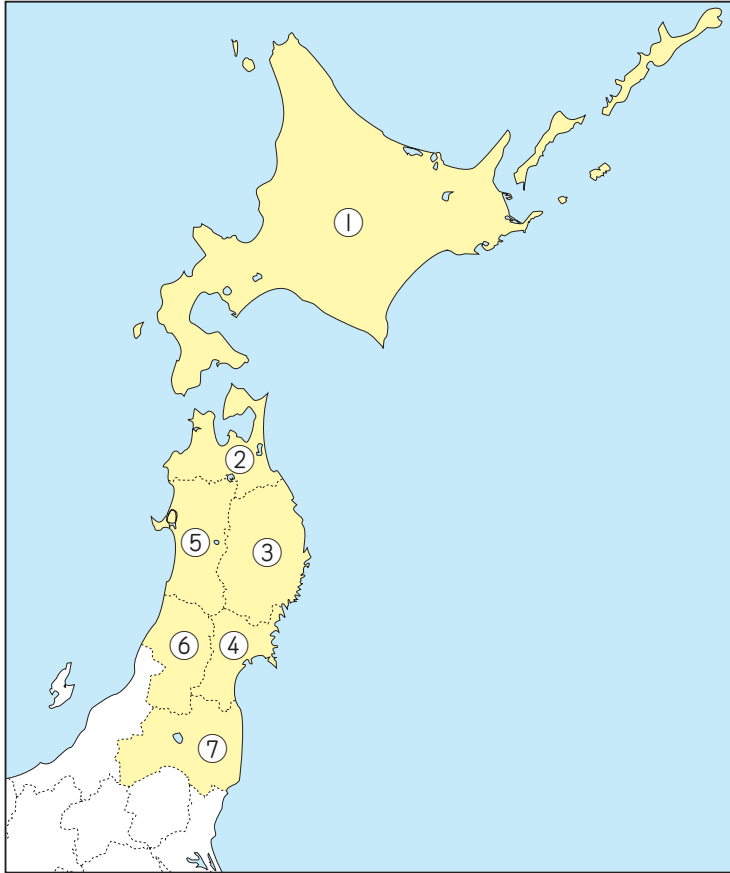
● 北海道と青森県を結ぶ青函トンネルは、交通用としては世界一長い海底トンネルなんだよ。

昔、北海道と本州の青森県の間を移動するときは、青函連絡船という船を使っていたんだ。しかし、津軽海峡の下に青函トンネルができたことで、鉄道で行き来できるようになったんだ。交通用の海底トンネルとしては世界一の長さなんだよ。

北海道が生産量日本一の農産物をいくつか言えるかな？  
小麦やじゃがいもだけでなく、大豆や小豆、たまねぎなども日本一だったね。たくさん言えたらカッコいいよ!



1 北海道地方・東北地方の①～⑦の都道府県名を、漢字でそれぞれ書きなさい。



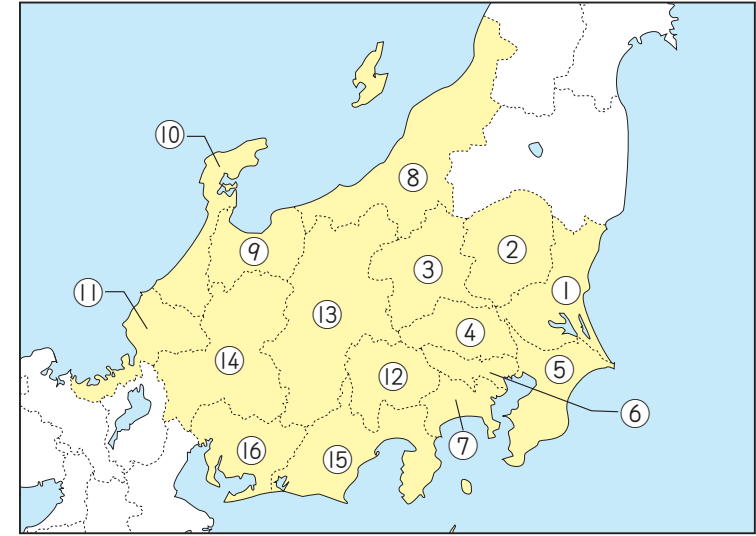
- 北海道地方  
① ( )
- 東北地方  
② ( )  
③ ( )  
④ ( )  
⑤ ( )  
⑥ ( )  
⑦ ( )

知って  
いたら **かっこいい!**

- 北海道は、かつて蝦夷地とよばれていたよ。
- 東北地方は、かつて陸奥と出羽とよばれていたね。陸奥は、本来「みちのおく」とよばれ、それが「みちのく」となり、さらにのちには「むつ」とよばれるようになったんだよ。



1 関東地方・中部地方の①～⑬の都道府県名を、漢字でそれぞれ書きなさい。

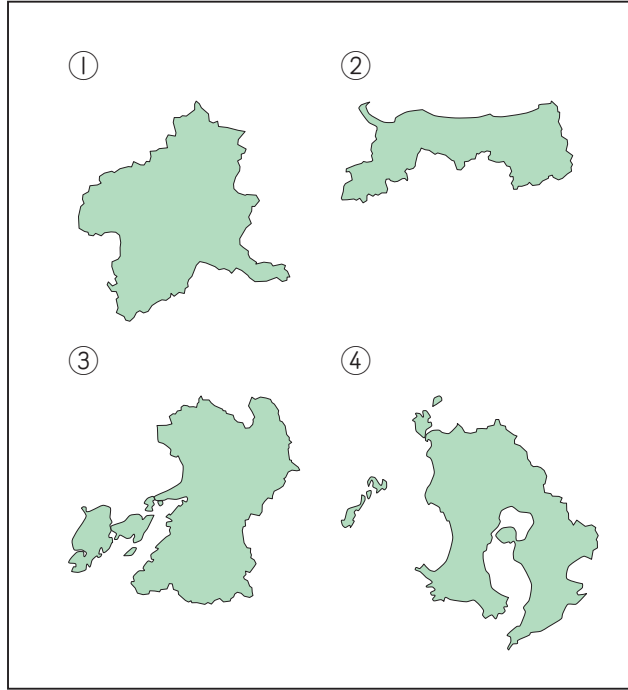


- 関東地方  
① ( ) ② ( ) ③ ( )  
④ ( ) ⑤ ( ) ⑥ ( )  
⑦ ( )
- 中部地方  
⑧ ( ) ⑨ ( ) ⑩ ( )  
⑪ ( ) ⑫ ( ) ⑬ ( )  
⑭ ( ) ⑮ ( ) ⑯ ( )

知って  
いたら **かっこいい!**

- 関東地方と山梨県、長野県、新潟県の3県を合わせて「関東甲信越地方」ともいうよ。これは3県の旧国名である甲斐、信濃、越後の頭文字を合わせたよび名なんだ。この3県は、関東地方とのつながりが深いんだよ。

1 次の①～④の都道府県は、都道府県名に動物を表す漢字がふくまれます。都道府県名をそれぞれ書きなさい。



- ① ( )
- ② ( )
- ③ ( )
- ④ ( )

2 1の①～④の都道府県のうち、日本海に面している都道府県名を書きなさい。  
( )

3 1の①～④の都道府県のうち、東シナ海に面している都道府県名を、2つ書きなさい。  
( )・( )



●「島」, 「川」, 「山」が都道府県名にふくまれる都道府県もすべて言えるとかっこいいね。この中で最も多くの都道府県に使われている漢字はどれかな？

1 次の①～③の都道府県名でしりとりをしたものです。①～③に入る都道府県名をそれぞれ書きなさい。なお、「県」をつけて書きなさい。

ふくい→①→きょうと→②→ぎふ→ふくおか→かがわ→③

- ① ( )
- ② ( )
- ③ ( )

2 1の①～③にあてはまる都道府県の都道府県庁所在地名を、それぞれ書きなさい。

- ① ( )
- ② ( )
- ③ ( )

3 次の①～③の都道府県庁所在地の名前でしりとりをしたものです。次の①～③に入る都道府県庁所在地名を、それぞれ書きなさい。なお、「市」をつけて書きなさい。

ふくおか→①→わかやま→②→しずおか→かごしま→③→まつえ

- ① ( )
- ② ( )
- ③ ( )

4 3の①～③の都道府県庁所在地が位置する都道府県名を、それぞれ書きなさい。

- ① ( )
- ② ( )
- ③ ( )



●都道府県名は、漢字3字のものがほとんどだね。でも、中には、漢字4字のものもあるね。鹿児島県、和歌山県、神奈川県の3県だと、すぐに言えるとかっこいいね！

