



「スペシャルボックス」と「マジックボックス」があります。

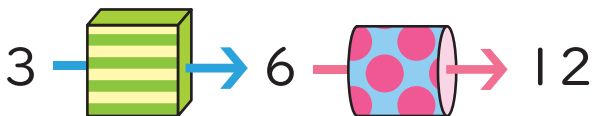
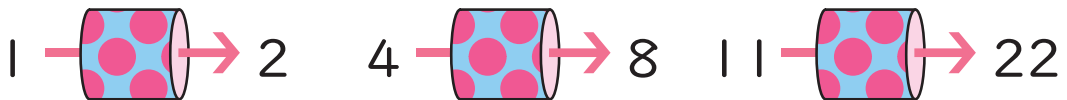
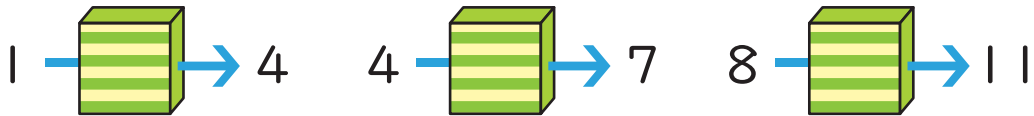
「スペシャルボックス」や「マジックボックス」の中を通ると、数がきまりに仕がってかわります。どのようにかわるかを考えて、□に入る数をこたえましょう。



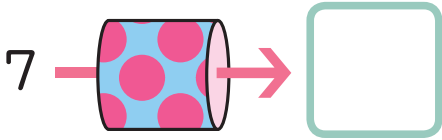
スペシャルボックス



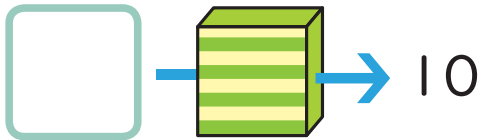
マジックボックス



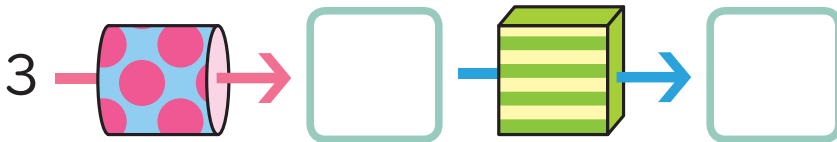
①



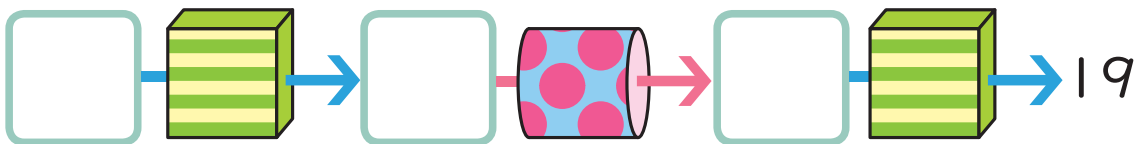
②



③



④



「スペシャルボックス」と「マジックボックス」の中なかを通とおると、それぞれどんなきまりかぎで数かずがかわるのかな。

 終わおったら、さいごのページにシールをはろう。

こたえは【かいとう】の15ページ