





第1回

生き物のようす／
人のからだ／天気

学習日 月 日

とくてん
得点
/100点

- 1 生き物のいろいろな季節のようすについて、次の問いに答えなさい。(40点)
 (1) 次のア～エのサクラのようすを観察できる順番にならべかえ、記号を書きなさい。ただし、最初をアとします。(10点)

| | | | |
|---|---|---|---|
| ア  | イ  | ウ  | エ  |
| 花がさく。 | 葉がすべて落ちる。 | 葉がしげり、実ができる。 | 葉の色が赤茶色になる。芽ができていのがわかる。 |

ア → () → () → ()

- (2) 秋になると南の国へ飛び立っていく鳥を、次のア～ウの中から1つ選び、記号を書きなさい。(10点)
 ア ヒヨドリ イ スズメ ウ ツバメ

()

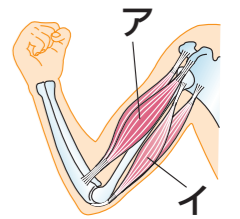
- (3) 生き物の冬のようすについて書かれた次のア～エの文のうち、正しいものには「○」を、まちがっているものには「×」を書きなさい。(各5点)
 ア ヒキガエルは、冬の間は土の中などで、じっと動かずにすごす。
 イ タンポポは、冬になると根も葉もすべてかれる。
 ウ オオカマキリは、よう虫のすがたで冬をこす。
 エ ヘチマの実、冬の間は緑色で水分を多くふくんでいる。

ア () イ ()
 ウ () エ ()

- 2 人のほねやきん肉について、次の問いに答えなさい。(25点)
 (1) ひじやひぎなど、よく動く部分のほねとほねのつなぎ目のことを何といいますか。書きなさい。(5点)

()

- (2) 右の図のように、うでを曲げました。ちぢんでいるきん肉はア・イのどちらですか。記号を書きなさい。(5点)



()

- (3) いろいろな動物のからだのつくりについて書かれた次のア～ウの文のうち、正しいものには「○」を、まちがっているものには「×」を書きなさい。(各5点)
 ア 魚はせばねをくねらせて泳ぐ。
 イ ウサギはうしろあしのきん肉が発達している。
 ウ ヘビにはほねがない。

ア () イ () ウ ()

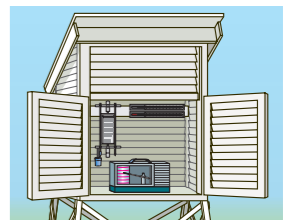
- 3 気温と天気について、次の問いに答えなさい。(35点)

- (1) 次の文のようなじょうけんではかった空気の温度を、気温といいます。下線部ア～ウについて、正しいときは「○」を、まちがっているときは正しい言葉それぞれ書きなさい。(各5点)

地面からの高さがア1.2m～1.5mで、風通しがイよく、日光が直接ウ当たる所ではかる。

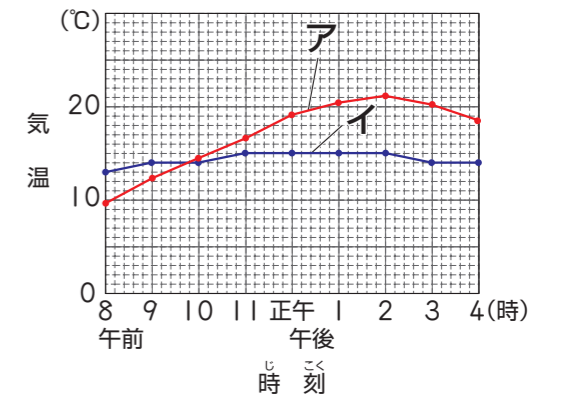
ア () イ ()
 ウ ()

- (2) 右の図は、正しいじょうけんではかるための箱です。この箱の名前を書きなさい。(10点)



()

- (3) 右のグラフは、晴れの日と雨の日の1日の気温の変化を表しています。晴れの日と雨の日のグラフはア・イのどちらですか。記号を書きなさい。(10点)



()